

الموضوع

التقيط

تمرين 1:

تحت درجة حرارة عالية يتفكك بنتاؤكسيد ثنائي ميثيل إلى $N_2O_5(g)$ و $NO_2(g)$ و $O_2(g)$ وفق تفاعل بطيء و كلي معادلته :

$$2N_2O_5(g) \rightarrow 4NO_2(g) + O_2(g)$$

من أجل التتبع الزمني لهذا التفاعل نأخذ كمية n_0 من $N_2O_5(g)$ داخل حوجلة محكمة السد حجمها $V = 0,50 L$ و نسخن المجموعة تحت درجة حرارة ثابتة $T = 318 K$.

نربط الحوجلة بمقياس الضغط لقياس الضغط الكلي داخل الحوجلة بدلالة الزمن. حيث أنه عند $t = 0$ الضغط داخل الحوجلة هو :

$$P_0 = 463,8 hPa$$

يعطي الجدول التالي النسبة $\frac{P(t)}{P_0}$ بدلالة الزمن :

$t(s)$	0	10	20	40	60	80	100
$\frac{P(t)}{P_0}$	1,000	1,435	1,740	2,047	2,250	2,358	2,422

معطيات :

- ثابتة الغازات الكاملة : $R = 8,31 J.mol^{-1}.K^{-1}$.
- نعتبر أن جميع الغازات خلال التجربة غازات كاملة.

-1

-1-1 بين أن : $n_0(N_2O_5) = 8,8.10^{-3} mol$.

-2-1 اعط الجدول الوصفي للتفاعل الحاصل.

-3-1 استنتج قيمة التقدم الأقصى x_{max} .

-2

-1-2 عبر عن كمية المادة الكلية خلال التحول للغازات المتدخلة في التفاعل بدلالة n_0 و x .

-2-2 باستعمال معادلة الحالة للغازات الكاملة بين أن : $\frac{P(t)}{P_0} = 1 + \frac{3x}{n_0}$.

-3-2 أحسب النسبة : $\frac{P_{max}}{P_0}$.

-4-2 هل ينتهي التفاعل خلال $100 s$. علل جوابك

-3

-1-3 عرف زمن نصف التفاعل.

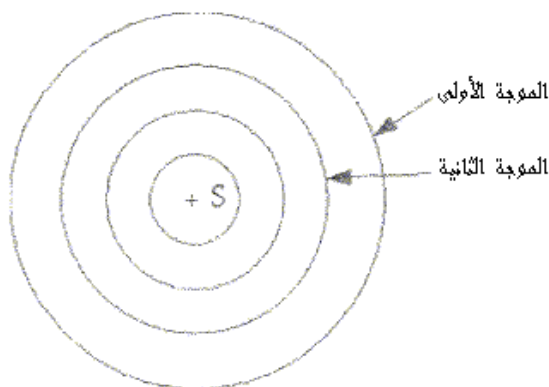
-2-3 أحسب قيمة الضغط الكلي داخل الحوجلة عند زمن نصف التفاعل.

-3-3 حدد قيمة زمن نصف التفاعل.

تمرين 2:

تتوفر بعض السيارات على منابع صوتية تصدر موجات جيبيية ترددها $f = 680 Hz$.

نعتبر السيارة متوقفة، و نشغل المنبع الصوتي عند $t = 0$ ، حيث تنتشر الموجات الصوتية في الهواء بالسرعة $v = 340 m.s^{-1}$ ، يمثل الشكل التالي صورة الموجات عند اللحظة $t = 4T$ (دور الموجات الصوتية).



-1 هل الموجة الصوتية طولية أم مستعرضة.

2- أحسب قيمة التأخر الزمني لنقطة M من وسط الإنتشار بالنسبة للمنبع S علما أن $SM = 51 m$.

3- أحسب قيمة دور الموجات الصوتية T .

4- أحسب المسافة d التي تقطعها الموجة الأولى خلال المدة $3T$.

5- استنتج قيمة طول الموجة λ .

نعتبر أن السيارة تقترب من شخص P متوقف جانب الطريق بسرعة $v' = 340 m.s^{-1}$. حيث أن المنبع يبعث الموجة الأولى عند لحظة تعتبرها أصلا للتواريخ عندما تكون السيارة في الموضع S ، بينما تنبعث الموجة الثانية في اللحظة T عندما تكون السيارة في الموضع S' .



ملاحظة : الهواء وسط غير مبدد بالنسبة للموجات الصوتية.

6- عبر عن المسافة SS' بدلالة v' و T .

7- عبر عن t_1 لحظة وصول الموجة الأولى للشخص P بدلالة SP و v .

8- عبر عن t_2 لحظة وصول الموجة الثانية للشخص P بدلالة $S'P$ ، T و v .

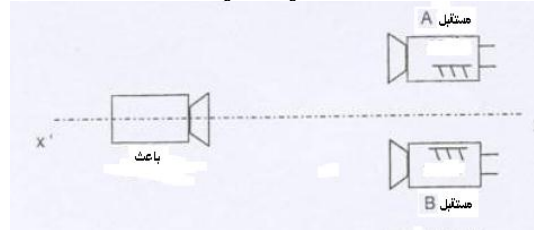
9- الشخص P يستقبل موجات صوتية دورها T' . بين أن : $T' = T * \frac{v-v'}{v}$

10- استنتج أن تعبير تردد الموجات الملتقطة من طرف الشخص هو : $f' = f * \frac{v}{v-v'}$

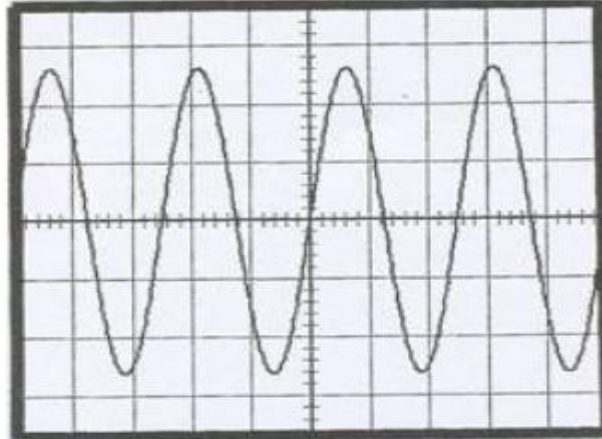
11- علما أن الشخص P يستقبل موجات صوتية ترددها $f' = 716 Hz$. أحسب سرعة السيارة v' بالوحدة $km.h^{-1}$.

تمرين 3:

لتحديد سرعة انتشار الصوت في الهواء، نجز التركيب التجريبي التالي:



إذا كان المستقبلين في نفس الموضع نحصل على منحنيين متطابقين كما يوضح المنحنى التالي :



لحساسية الأفقية :
 $S'_{H'} = 10 \mu s / cm$

1- ما هي الدورية التي يبرزها المنحنى.

2- أحسب تردد الموجات التي يبعثها الباعث.

3- نزيح أحد المستقبلين على المستقيم $(x'x)$ فنحصل على منحنيين على تعاكس في الطور للمرة الثانية بالنسبة لمسافة $d = 12,75 mm$ بين المستقبلين.

3-1- مثل شكل المنحنيين الملتقطين من طرف المستقبلين.

3-2- أحسب قيمة λ طول الموجات فوق الصوتية المستعملة.

3-3- أحسب سرعة انتشار الموجات فوق الصوتية.

4- نضبط تردد الباعث على القيمة $f' = 30 kHz$ فيصبح طول الموجات هو λ' . أحسب λ' علما أن الهواء وسط غير مبدد بالنسبة للموجات الصوتية.

عناصر الأجوبة

تمرين 1:

-1

$$n_0 = \frac{P_0 V}{RT} = \frac{463,8 \cdot 10^2 * 0,5 \cdot 10^{-3}}{8,314 * 318} = 8,77 \cdot 10^{-3} \approx 8,8 \cdot 10^{-3} \text{ mol} \quad -1-1$$

-2-1

$2N_2O_5(g) \rightarrow 4NO_2(g) + O_2(g)$			معادلة التفاعل	
كميات المادة			التقدم	الحالات
n_0	0	0	0	ح.ب.
$n_0 - 2x$	$4x$	x	x	خ.ت.
$n_0 - 2x_{\max}$	$4x_{\max}$	x_{\max}	x_{\max}	ح.ن.

$$x_{\max} = \frac{n_0}{2} = 4,4 \cdot 10^{-3} \text{ mol} \quad -3-1$$

-2

$$n_G = n_0 - 2x + 4x + x = n_0 - 3x \quad -1-2$$

$$P_0 V = n_0 RT \quad \text{و} \quad P(t) \cdot V = n_G RT \quad -2-2$$

$$\frac{P(t)}{P_0} = \frac{n_G}{n_0} = \frac{n_0 + 3x}{n_0} = 1 + \frac{3x}{n_0} \quad \text{فإن}$$

$$\frac{P_{\max}}{P_0} = 1 + \frac{3x_{\max}}{n_0} = 2,5 \quad -3-2$$

$$\frac{P(100)}{P_0} < 2,5 \quad \text{لا ينتهي التفاعل خلال } 100 \text{ s لأن } \quad -4-2$$

-3

-1-3 زمن نصف التفاعل هو المدة الزمنية اللازمة ليصل x نصف قيمته النهائية.

$$P_{1/2} = P_0 \left(1 + \frac{3x_{1/2}}{n_0}\right) = P_0 \left(1 + \frac{3}{4}\right) = 811,65 \text{ hPa} \quad -2-3$$

$$t_{1/2} = 20 \text{ s} \quad \text{إذن} \quad \frac{P_{1/2}}{P_0} = 1,75 \quad -3-3$$

تمرين 2:

-1 الموجة الصوتية طولية.

$$\tau = \frac{SM}{v} = 0,15 \text{ s} \quad -2$$

$$T = \frac{1}{f} = 1,47 \cdot 10^{-3} \text{ s} \quad -3$$

$$d = v * 3T = 1,50 \text{ m} \quad -4$$

$$\lambda = \frac{d}{3} = 0,5 \text{ m} \quad -5$$

$$SS' = v'T \quad -6$$

$$t_1 = \frac{SP}{v} \quad -7$$

$$t_2 = T + \frac{S'P}{v} \quad -8$$

$$T' = t_2 - t_1 = T + \frac{S'P}{v} - \frac{SP}{v} = T - \frac{SS'}{v} = T - \frac{v'T}{v} = T * \frac{v-v'}{v} \quad -9$$

$$\frac{1}{T'} = \frac{1}{T} * \frac{v}{v-v'} \Rightarrow f' = f * \frac{v}{v-v'} \quad \text{-10}$$

$$v' = v - \frac{f}{f'} v = 17,09 \text{ m.s}^{-1} = 61,52 \text{ km.h}^{-1} \quad \text{-11}$$

تمرين 3:

1- دورية زمانية.

$$f = \frac{1}{T} = 40 \text{ kHz} \quad \text{-2}$$

3-

3-1 تمثيل منحنيين على تعاكس في الطور.

$$d = \frac{3}{2} \lambda \Rightarrow \lambda = \frac{2}{3} d = 8,5 \text{ mm} \quad \text{-2-3}$$

$$v = \lambda * f = 340 \text{ m.s}^{-1} \quad \text{-3-3}$$

$$\lambda' = \frac{v}{f'} = 11,33 \text{ mm} \quad \text{-4}$$