


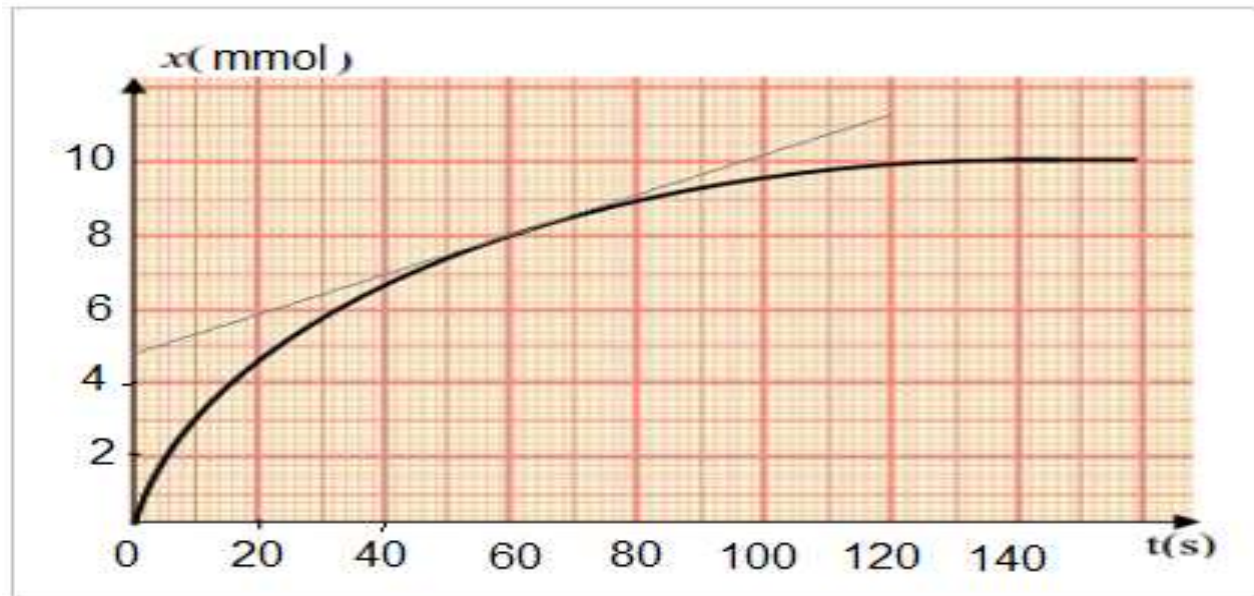
2016-2015 الدورة الأولى	فرض محروس رقم 1 المستوى الثانية باك علوم فيزيائية	ثانوية وادي الذهب التأهيلية أصيلة
الإعتناء بورقة التحرير ضروري وتخصص لذلك نقطة		

الكيمياء (7 نقط)

1- يتفاعل حمض الكلوريدريك ($H^+ + Cl^-$) مع فلز المغنيزيوم Mg وفق المعادلة التالية :



عند اللحظة $t = 0$ ندخل كتلة $m = 0,36 g$ من فلز المغنيزيوم في حوجة تحتوي على حجم $V = 40 mL$ من حمض الكلوريدريك تركيزه $C = 0,50 mol.L^{-1}$ مكنتنا تقنية قياس حجم ثنائي الهيدروجين $V(H_2)$ الناتج من رسم المنحنى $x = f(t)$ حيث x تقدم التفاعل .



- 1- حدد المزدوجتين Ox/Red المتدخلتين في التفاعل و انصاف المعادلة أكسدة-اختزال لهاتين المزدوجتين. (1ن)
- 2- أتمم ملاً الجدول الوصفي لهذا التفاعل وحدد المتفاعل المحد والتقدم الأقصى . (1,5ن)
نعطي : $M(Mg) = 24 g/mol$

معادلة التفاعل		$2H^+(aq) + Mg(s) \rightarrow H_2(g) + Mg^{2+}(aq)$			
الحالة	التقدم	كميات المادة بال mmol			
البدئية	0	$n_0(H^+) = \dots\dots\dots$	$n_0(Mg) = \dots\dots\dots$	0	0
خلال التفاعل	x				
نهاية التفاعل	x_{max}				


- 3- حدد حجم غاز ثنائي الهيدروجين عند اللحظة $t = 80 s$. نعطي : $V_m = 24 L/mol$ (1ن)
- 4- عبر عن سرعة التفاعل بدلالة V و V_m الحجم المولي و $\frac{dV(H_2)}{dt}$. (1ن)
- 5- حدد مبيانيا السرعة الحجمية للتفاعل عند اللحظة $t = 60 s$. (1ن)
- 6- حدد $t_{1/2}$ زمن نصف التفاعل محددًا قيمته على المنحنى $x = f(t)$. (1ن)
- 7- يعتبر هذا التفاعل بطيء . حدد معللا جوابك كيف يمكن تسريعه . (05ن)

الفيزياء (12 نقطة)

التمرين الأول (5,5 نقطة) :

يحدث هزاز مرتبط بمنبع نقطي S موجة ميكانيكية متوالية جيبية دائرية على سطح الماء لحوض الموجات تردد المنبع هو $N = 50 \text{ Hz}$.

نضبط تردد الوماض N_e على أكبر قيمة تمكن من الحصول على التوقف الظاهري لسطح الماء .
عند اللحظة $t = 0$ تنطلق الموجة من المنبع وعند اللحظة t_1 نمثل في الشكل 1 مقطعا لسطح الماء .



- 1- هل الموجة المدروسة طولية او مستعرضة ؟ علل جوابك. (0,5ن)
- 2- حدد λ طول الموجة و استنتج V سرعة انتشار الموجة . (1,25ن)
- 3- أحسب قيمة اللحظة t_1 . (0,75ن)
- 4- مثل مقطع راسي لسطح الماء عند اللحظة $t_2 = 65 \text{ ms}$. (1ن)
- 5- قارن حركة النقطتين S و M معللا جوابك . (0,5ن)
- 6- ماذا نلاحظ عند إضاءة سطح الماء بوماض تردده عند القيمة $N_e = 51 \text{ Hz}$ ؟ (0,5ن)
- 7- نضع أمام الموجة السابقة حاجزا مزودا بشق عرضه $a = 3 \text{ cm}$.
اعط اسم الظاهرة المشاهدة و أنجز رسما توضيحيا لها. (1ن)

التمرين الثاني (6,5 نقطة)

الجزء الاول :

تمثل الوثيقة أسفله (الشكل 2) صورة شكل ناتج عن حيود موجة ضوئية ، تم الحصول عليه على شاشة بواسطة شق عرضه a مضاء بواسطة جهاز ليزر طول موجته $\lambda = 670 \text{ nm}$ و يبعد بمسافة $D = 2 \text{ m}$ عن هذه الشاشة .



- 1- حدد معللا جوابك اتجاه الشق . (0,5ن)
- 2- مثل تبيانة التجربة ومثل عليها المسافتين D و L عرض البقعة المركزية والفرق الزاوي θ بين وسط البقعة المركزية وأول بقعة مظلمة . (1ن)
- 3- ما العلاقة التي تربط θ و λ و a . (0,5ن)
- 4- أوجد العلاقة بين a و D و L و λ . باعتبار التقريب $\tan \theta \approx \theta \text{ (rad)}$. (0,5ن)
- 5- نقيس على الشاشة عرض البقعة المركزية فنجد $L = 12 \text{ mm}$ استنتج a قيمة عرض الشق . (1ن)
- 6- نستبدل جهاز اللزر بأخر طول موجته $\lambda' = 532 \text{ nm}$ كيف يتغير شكل الحيود ؟ (0,5ن)

الجزء الثاني :

نرسل شعاع ضوئي أحادي اللون على موشر ، معامل انكساره n ، بزاوية الورود i فينبثق من موشر تحت زاوية انكسار i' . لتكن $A = 60^\circ$ زاوية الموشر و D زاوية الانحراف .

- 1- عندما تكون $i' = i$ بين ان $r = r'$ و استنتج أن $r = \frac{A}{2}$ و $i = \frac{D+A}{2}$. (1ن)
- 2- أحسب n بالنسبة للضوء الاحادي اللون المستعمل علما ان $D = 47,4^\circ$. (1ن)
- 3- ترد على الموشر حزمة رقيقة من الضوء الأبيض ، من بين الأضواء التي تنبثق من الموشر نجد الضوء الأزرق والبرتقالي والأحمر ما اسم الظاهرة التي حدثت في هذه التجربة ؟ (0,5ن)

بالتوفيق

" لا توجد فرص مجردة من الجهد إلا في الأحلام ، ولا يقابل الفرص في الأحلام إلا النيام ... "

تصحيح الفرض الأول الكيمياء

1- تحديد المزدوجتين Ox/Red المتدخلتين في التفاعل و انصاف المعادلة أكسدة-اختزال لهاتين المزدوجتين:



2- إتمام ملأ الجدول الوصفي لهذا التفاعل وتحديد المتفاعل المحد والتقدم الأقصى:

حساب كميات المادة البدئية للمتفاعلات :

$$n_0(H^+) = C \cdot V = 0,4 \times 0,04 = 0,02 \text{ mol} = 20 \text{ mmol}$$

$$n_0(Mg) = \frac{m}{M(Mg)} = \frac{0,36}{24} = 0,015 = 15 \text{ mmol}$$

معادلة التفاعل		2H ⁺ (aq) + Mg(s) → H ₂ (g) + Mg ²⁺ (aq)			
الحالة	التقدم	كميات المادة بال mmol			
البدئية	0	n ₀ (H ⁺) = 20	n ₀ (Mg) = 15	0	0
خلال التفاعل	x	20 - 2x	15 - x	x	x
نهاية التفاعل	x _{max}	20 - 2x _{max}	15 - x _{max}	x _{max}	x _{max}

$$\frac{20}{2} = 10 \text{ mmol} < \frac{15}{1} = 15 \text{ mmol}$$

المتفاعل المحد هو H⁺ والتقدم الأقصى هو x_{max} = 10 mmol

3- تحديد حجم غاز ثنائي الهيدروجين عند اللحظة t = 80 s :

$$n(H_2) = x = \frac{V(H_2)}{V_m} \quad \text{: وحسب العلاقة} \quad x = 9 \text{ mmol} \quad \text{نجد ميانيا عند اللحظة } t = 80 \text{ s}$$

$$v(H_2) = x \cdot V_m = 9 \cdot 10^{-3} \times 24 = 0,216 \text{ L}$$

4- التعبير عن سرعة التفاعل بدلالة V و V_m الحجم المولي و $\frac{dV(H_2)}{dt}$:

لدينا :

$$\frac{dx}{dt} = \frac{d}{dt} \left(\frac{V(H_2)}{V_m} \right) = \frac{1}{V_m} \cdot \frac{dV(H_2)}{dt} \quad \text{: وبالتالي} \quad x = \frac{V(H_2)}{V_m}$$

حسب تعبير السرعة :

$$v = \frac{1}{V} \cdot \frac{dx}{dt} = \frac{1}{V \cdot V_m} \cdot \frac{dV(H_2)}{dt}$$

5-التحديد المبياني للسرعة الحجمية عند اللحظة $t = 80 s$:

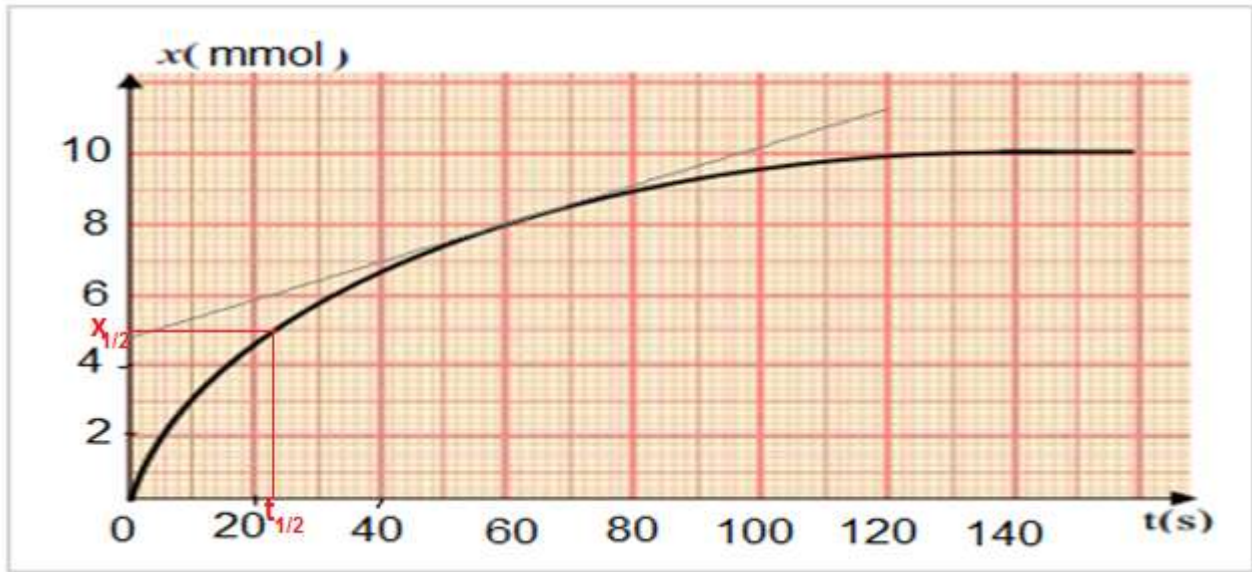
$$v(t = 80s) = \frac{1}{V} \cdot \left(\frac{\Delta x}{\Delta t} \right)_{t=80s} = \frac{1}{40 \cdot 10^{-3}} \times \frac{(10,1 - 8)}{(100 - 60)} = 1,31 \text{ mmol} \cdot L^{-1} \cdot s^{-1}$$

6- تحديد زمن نصف التفاعل :

$$x(t_{1/2}) = \frac{x_{max}}{2} = 5 \text{ mmol}$$

مبيانيا نجد $t_{1/2} \approx 22 s$

أنظر المبيان جانبه :



7-كيفية تسريع التفاعل :

بما أن درجة الحرارة عامل حركي ، لتسريع التفاعل نسخن الخليط التفاعلي .

الفيزياء :

التمرين الأول :

1-طبيعة الموجة المدروسة :

الموجة مستعرضة لأن اتجاه التشويه عمودي على اتجاه الانتشار .

2- تحديد λ طول الموجة و استنتاج V سرعة انتشار الموجة :

مبيانيا $\lambda = 4 \text{ cm}$

$$V = \lambda \cdot N = 0,04 \times 50 = 2 \text{ m} \cdot s^{-1}$$

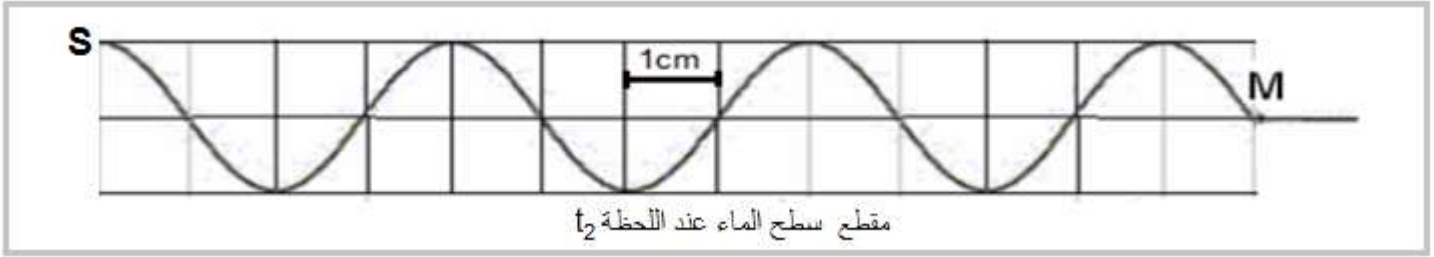
3- حساب t_1 :

مبيانيا المسافة SM هي : $SM = 10\text{cm}$

$$t_1 = \frac{SM}{V} = \frac{0,1}{2} = 5.10^{-2} \text{ s}$$

4- تمثيل مقطع راسي لسطح الماء عند اللحظة $t_2 = 65 \text{ ms}$:

خلال المدة t_2 تقطع الموجة المسافة $d = V.t_2 = 2 \times 65.10^{-3} = 0,13 = 3,25 \lambda$



5- مقارنة حركة النقطتين S و M :

تردد الموجة يقارب تردد الوماض $N \approx N_e$ نحصل على حركة

ظاهرة بطيئة للموجة .

6- ظاهرة الحيود

بما أن $a < \lambda$ نحصل على ظاهرة الحيود أنظر

التمرين الثاني :

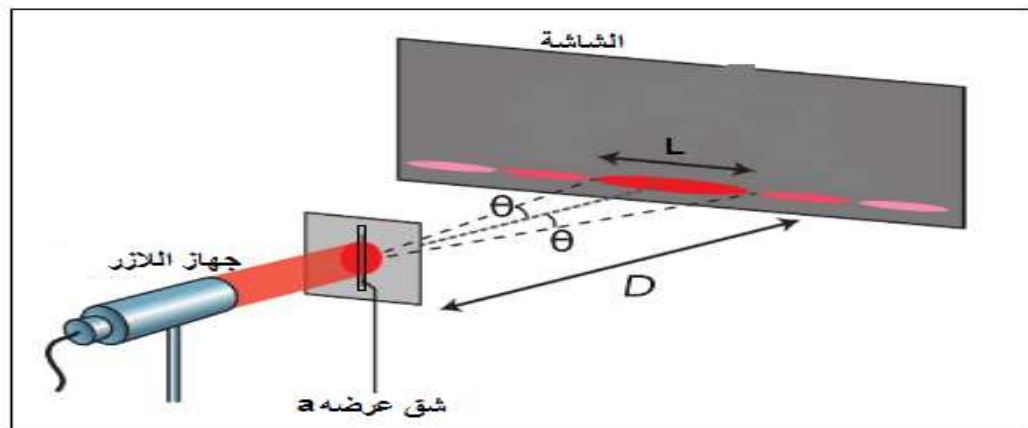
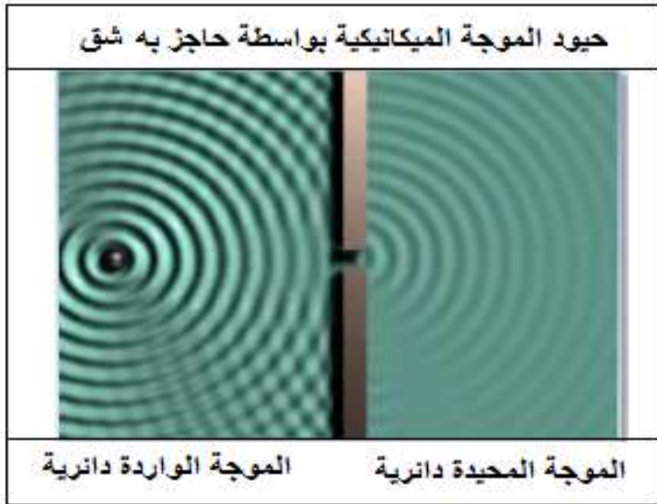
الجزء الاول :

1- تحديد اتجاه الشق :

اتجاه الشق عمودي على اتجاه الحيود .

اتجاه الشق رأسي لان اتجاه البقعة المركزية أفقي .

2- تمثيل تبيانة تجربة حيود الضوء بواسطة شق رأسي :



3- العلاقة التي تربط θ و λ و a

$$\theta = \frac{\lambda}{a}$$

4- أيجاد العلاقة بين a و D و L و λ :

حسب الشكل جانبه لدينا :

$$\tan\theta = \frac{L}{2D} \quad \text{بما أن } \theta \text{ صغيرة فإن } \tan\theta \approx \theta \text{ وبالتالي : } \theta = \frac{L}{2D} \text{ و منه نحصل على : } \frac{L}{2D} = \frac{\lambda}{a}$$

5- استنتاج a قيمة عرض الشق :

$$a = \frac{2\lambda \cdot D}{L} = \frac{2 \times 670 \cdot 10^{-9} \times 2}{12 \cdot 10^{-3}}$$

$$a = 2,23 \cdot 10^{-4} \text{ m}$$

6- علاقة الحيود بطول الموجة :

$$L = \frac{2\lambda \cdot D}{a}$$

يزداد عرض البقعة المركزية مع ازدياد طول الموجة الضوء الاحادي اللون والعكس صحيح .

إذن عرض البقعة المركزية سيتناقص في حالة استعمال ضوء أحادي اللون طول موجته $\lambda' = 532 \text{ nm}$.

الجزء الثاني :

1- إثبات أن $r = r'$ و استنتاج أن $r = \frac{A}{2}$ و $i = \frac{D+A}{2}$:

لدينا حسب قانون ديكارت للانكسار على الوجهين :

$$\begin{cases} \sin i = n \cdot \sin r \\ \sin i' = n \cdot \sin r' \end{cases} \Rightarrow i = i' \Rightarrow \sin r = \sin r' \Rightarrow r = r'$$

$$r = \frac{A}{2} \quad \text{أي :} \quad A = r + r' = 2r$$

$$i = \frac{D+A}{2} \quad \text{أي :} \quad D = i + i' - A = 2i - A$$

2- لدينا : $\sin i = n \cdot \sin r$ أي : $\sin\left(\frac{D+A}{2}\right) = n \cdot \sin\left(\frac{A}{2}\right)$

ومنه :

$$n = \frac{\sin\left(\frac{D+A}{2}\right)}{\sin\left(\frac{A}{2}\right)} = \frac{\sin\left(\frac{47,4 + 60}{2}\right)}{\sin\left(\frac{60}{2}\right)} = 1,6$$

3-الظاهرة المشاهدة تبعد الضوء الابيض .

داخل الموشور سرعات الموجات الضوئية تتعلق بتردد الموجات الضوئية وهذا مايفسر حدوث ظاهرة التبدد ومنه فإن الموشور وسط مبدد .

