

التمرين 1: موضوع الاستعداد المنظم للمعارضة (4ن)

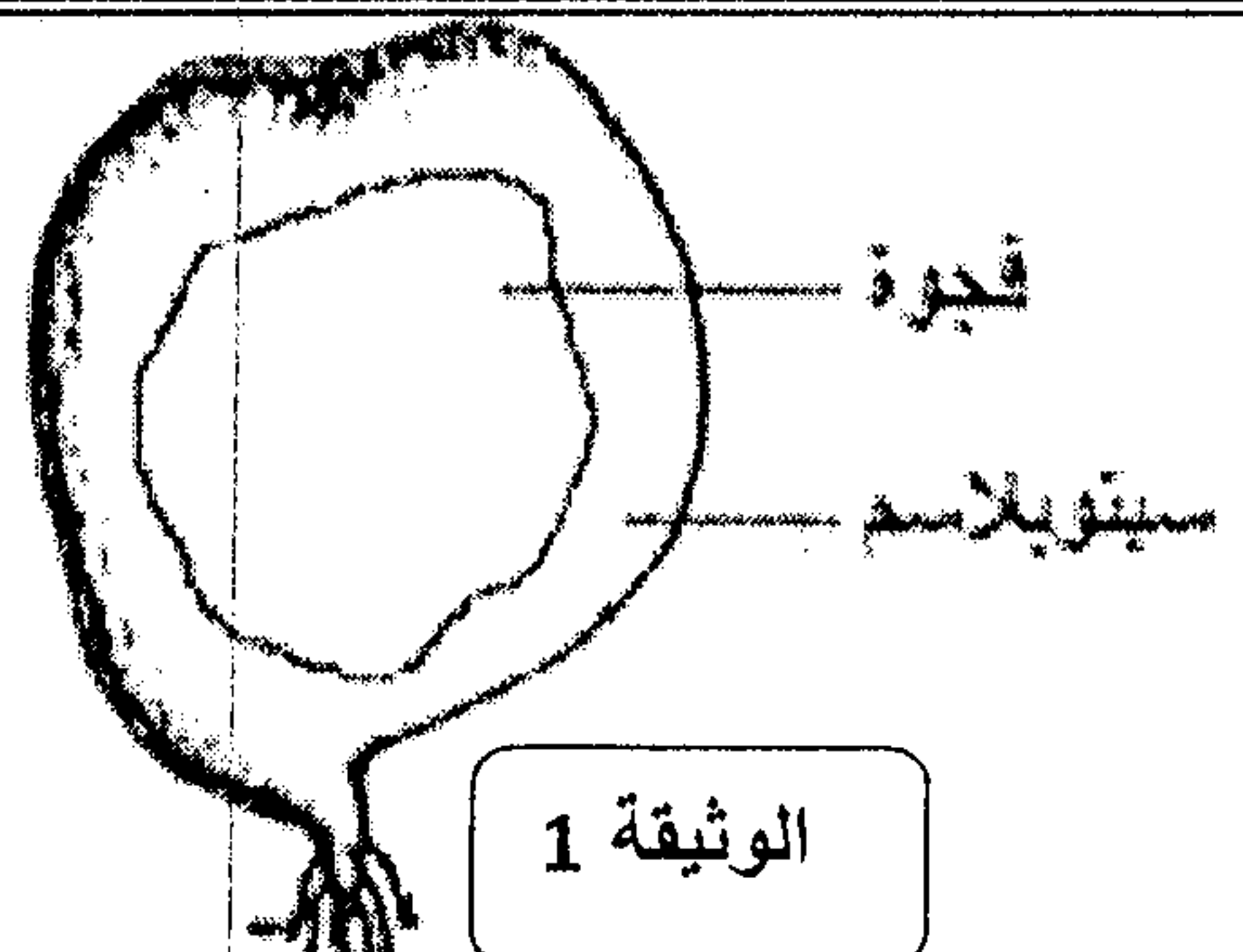
يلعب الغشاء السيتوبلازمي دورا مهما في تبادلات الماء والمواد المذابة بين الوسط الداخلي للخلية والوسط الخارجي بعد تحديد مكونات وبنية الغشاء السيتوبلازمي، عرف أربع أنواع من النقل الغشائي وعلاقته ببنية ومكونات الغشاء السيتوبلازمي (إشرح دور مكونات الغشاء في كل نوع من هذه الأنواع)

التمرين 2: (5 ن)

تمثل الوثيقة 1 بنية طحلب أخضر بحري وحيد الخلية. نقوم بمقارنة التركيب الأيوني لعصارة فجوته مع ماء البحر، النتائج المحصل عليها ممثلة في جدول الوثيقة 2

ماء البحر mmol/l	عصارة الفجوة mmol/l	الايونات
10	400	البوتاسيوم K^+
440	85	الصوديوم Na^+

الوثيقة 2



1 - قارن تركيز الأيونات بين الوسط الداخلي للطحلب والوسط الخارجي. (1ن)

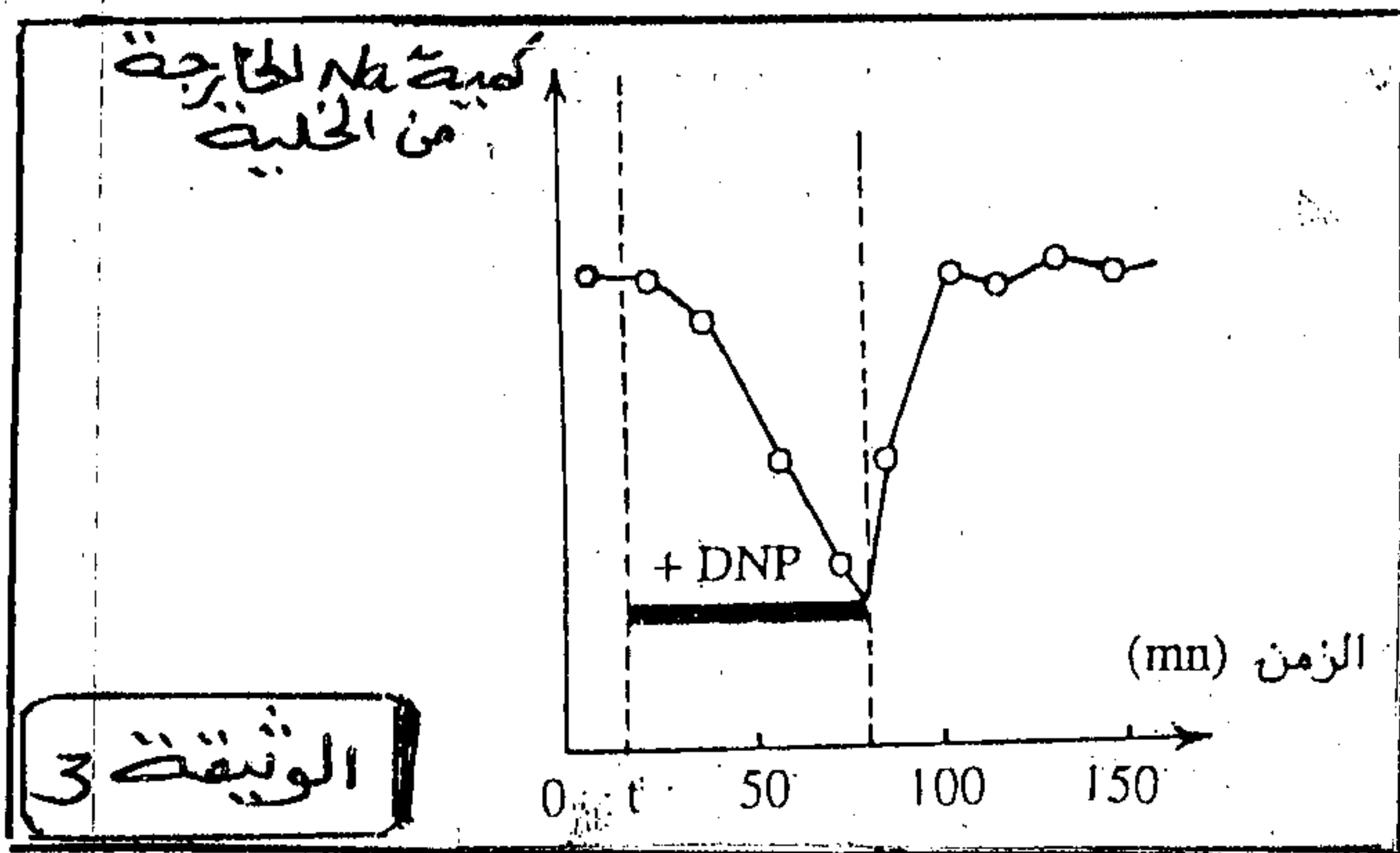
للكشف عن الآلية التي تحافظ على هذا التوزيع ننجز التجارب التالية:

- التجربة الأولى: نغمر الطحلب الأخضر في إناء به ماء البحر يحتوي على البوتاسيوم المشع، فنلاحظ أن الوسط الداخلي للطحلب أصبح مشعا.

- التجربة الثانية: نحقن الطحلب بالصوديوم المشع ثم نغمره في إناء به ماء البحر، فنلاحظ أن الإشعاع يقل داخل الطحلب ويزداد في ماء البحر.

2 - باستغلال نتائج التجربتين الأولى والثانية، ماذا تستنتج فيما يخص نفاذية كل من أيوني الصوديوم والبوتاسيوم. (2ن)

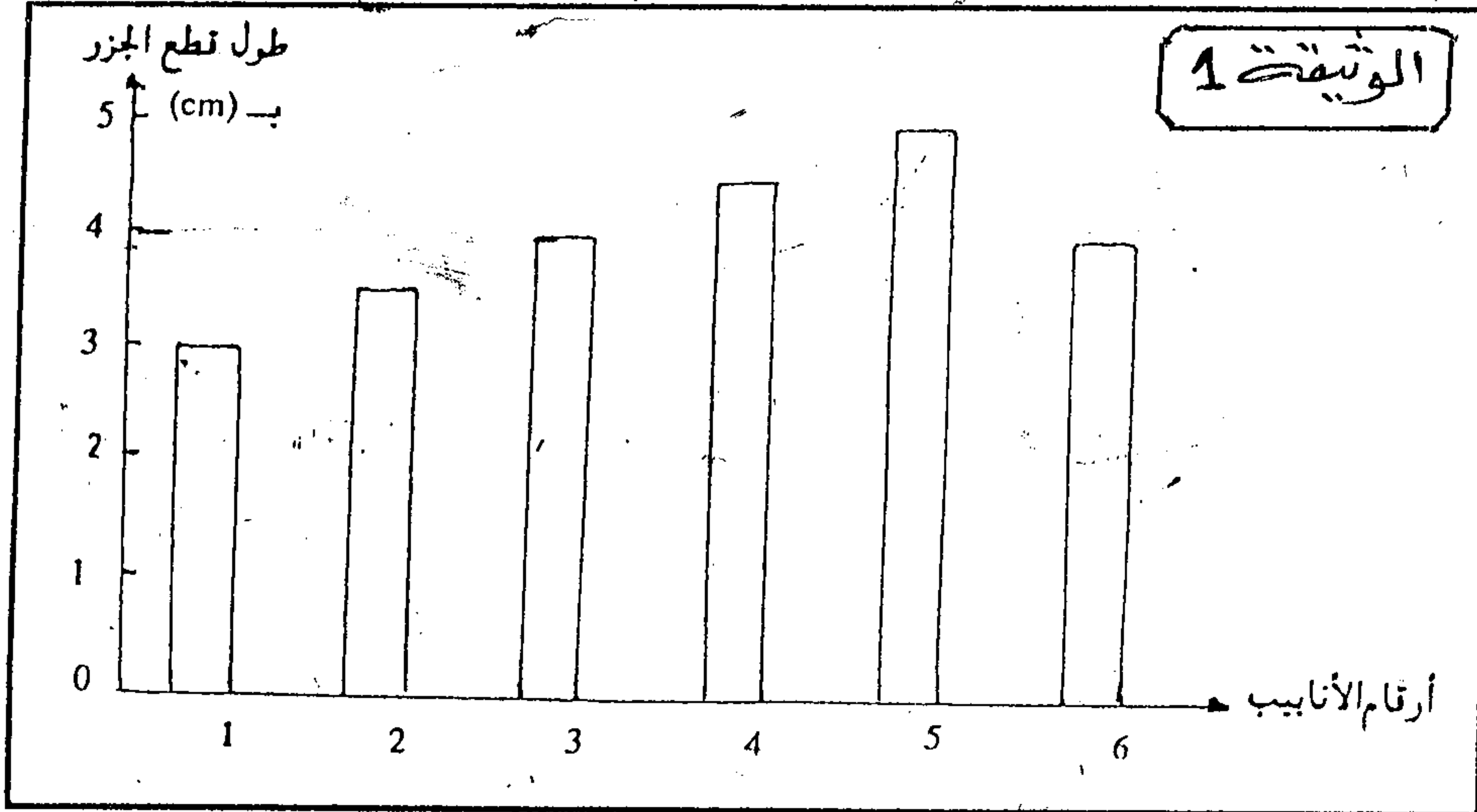
- التجربة الثالثة: بعد حقن الطحلب بالصوديوم المشع نحقنه في الزمن t بمادة DNP التي تمنع تركيب جزيئات ATP من طرف الطحلب، وبعد مدة نغسل الطحلب لإزالة مادة DNP. مبيان الوثيقة 3 يمثل تغيرات كمية الصوديوم المشع المتدفق خارج الخلية.



3 - صف تغيرات تدفق الصوديوم المشع خلال هذه التجربة. وفسر اعتمادا على نتائج التجارب الثلاث النتائج المحصل عليها في جدول الوثيقة 2. (2ن)

نقوم بقطع 5 قطع متساوية الطول من جزر نبيء وقطعة أخرى من جزر مطبوخ طول كل قطعة يساوي 4cm نضع القطع الستة في أنابيب اختبار تحتوي على محاليل NaCl ذات تركيزات مختلفة.

(وضعت قطعة الجزر المطبوخ في الأنبوب 6 الذي يحتوي على محلول ذو تركيز ضعيف) بعد ساعتين من بداية التجربة نقوم بقياس طول قطع الجزر تمثل الوثيقة 1 النتائج المحصل عليها.



1- باستغلال هذه النتائج قارن تركيز محاليل الأنابيب من 1 إلى 5. وفسر تغيرات الطول في هذه المحاليل. (3 ن)

2- أنجز رسمين تخطيطيين مع الأسماء المناسبة لخليتين من الأنبوب 1 والأنبوب 5. (3 ن)

3- من الأنابيب الخمس الأولى ما هو الأنبوب الذي يجب اعتباره لتحديد الضغط التنافدي لخلايا جزر. علل جوابك. (1 ن)

4- علما أن الطبخ يؤدي إلى تدمير البروتينات فسر نتيجة الأنبوب 6. (1 ن)

يمثل الجدول التالي نتائج 3 تجارب وضعت خلالها خلايا نباتية في محاليل تحتوي على 3 مواد مشعة

التجربة	محتوى الوسط خارج الخلية	النتائج المحصل عليها	مظهر الخلايا
1 (t = 20° C)	محلول السكر المشع بتركيز 0,8 mol.l ⁻¹	غياب كل أثر للنشاط الاشعاعي داخل الخلية طيلة مدة التجربة	في بداية التجربة بعد مرور 15 دقيقة مبلزمة
2 (t = 20° C)	محلول الأستاميد بتركيز 0,8 mol.l ⁻¹	توضع النشاط الاشعاعي داخل الخلية بعد مرور 5 دقائق.	مبلزمة ممتلئة
3 (t = 20° C)	محلول البولة المشعة بتركيز 0,8 mol.l ⁻¹	توضع النشاط الاشعاعي داخل الخلية بعد مرور 15 دقيقة.	مبلزمة ممتلئة

1- أحسب لضغط التنافدي للمحاليل الثلاث. باستعمال العلاقة $PO = R T C$ (1 ن)

نعطي: R=0,082 ; C = mol/l ; T=273+t

2- سم وفسر الظاهرة التي حدثت في التجربتين 2 و 3. (2 ن)