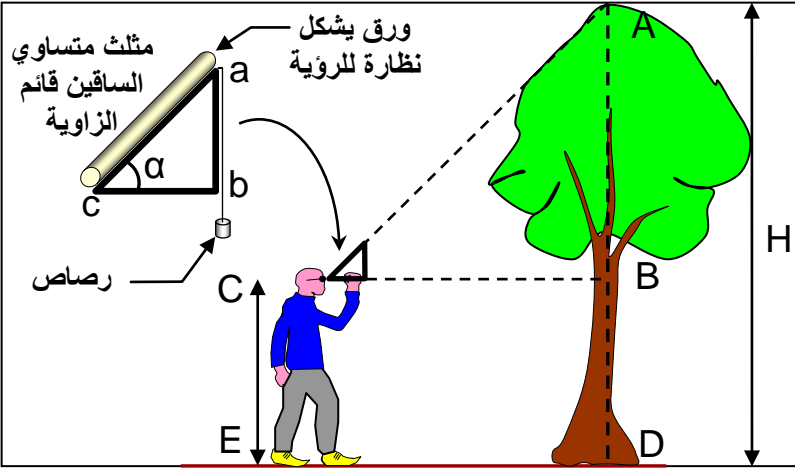


علم البيئة

الايكولوجيا L'écologie كلمة لاتينية مركبة من "إيكو" وتعني المسكن Habita "لوجيا" Logos وتعني علم. ويمكن إذن ترجمة هذا اللفظ بعلم المسكن أو علم البيئة. يهتم علم البيئة بدراسة العلاقات المتواجدة بين المتعضيات Les organismes والوسط الذي يحيط بها وبين المتعضيات فيما بينها. لتحقيق أهدافه يقوم عالم البيئة بدراسة الكائنات الحية في وسط عيشها فيعمل على جرد un relevé مختلف أنواع النباتات والحيوانات وعلى البحث عن العلاقات التي تربط فيما بينها ومع الوسط الذي تعيش فيه. ويعتبر هذا العلم علما تركيبيا يعتمد على معارف مختلفة متعلقة بالبيولوجيا والجيولوجيا والرياضيات والفيزياء.

- ما هي التقنيات المعتمدة في علم البيئة؟
- ما هو شكل العلاقات المتواجدة بين المتعضيات ووسط عيشها؟

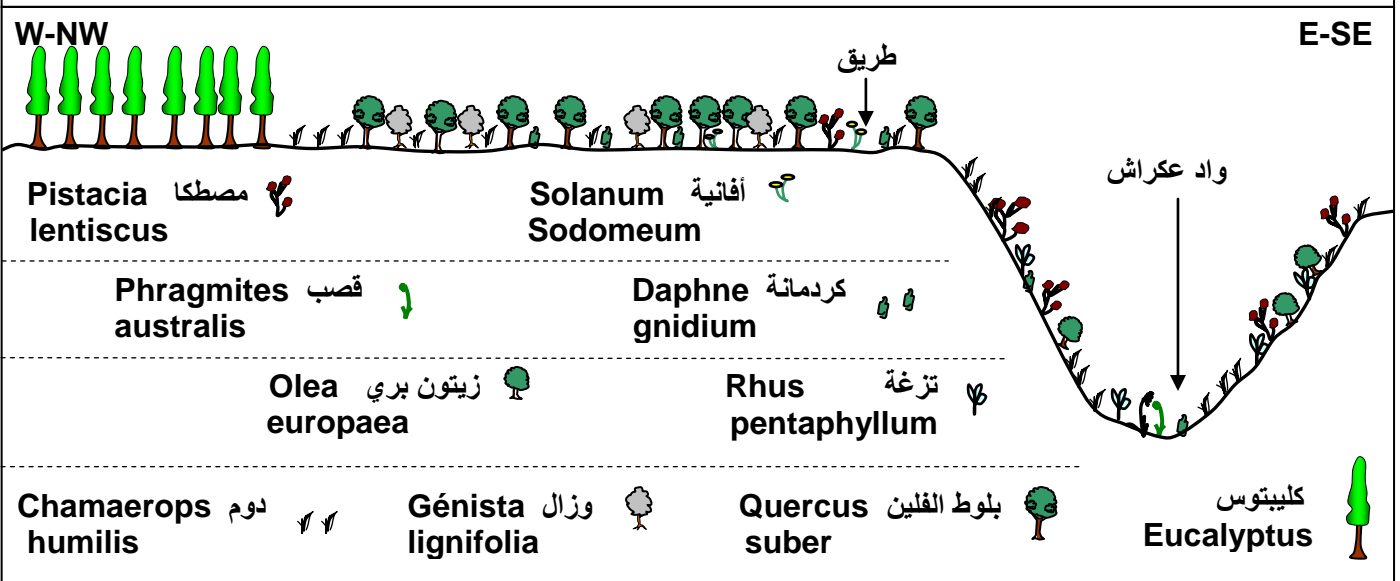
الوثيقة 2: قياس علو الأشجار.



طول الشجرة = $AB + BD$
 طول الشخص = $CE = BD$
 $AB = CE$
 $Tga = AB/BC \Rightarrow AB = tga \times BC$
 $\alpha = 45^\circ \Rightarrow tga = 1$
 $\Rightarrow AB = BC$
 BC هي المسافة الفاصلة بين الشخص والشجرة.
 طول الشجرة = طول الشخص + المسافة بين الشخص والشجرة

② انجاز مقاطع أفقية لتوزيع النباتات: أنظر الوثيقة 3.

الوثيقة 3: مقطع أفقي لتوزيع النباتات بغابة المخينة. حل هذه الوثيقة، ثم حدد الخطوات المتبعة لانجازها.



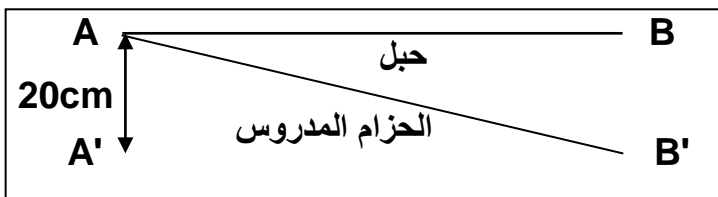
تظهر المقاطع الأفقية على شكل مناطق متوالية يختلف تنبثها كلما اتجهنا من جهة جغرافية نحو أخرى. ويرجع هذا الاختلاف إلى عوامل بيئية خاصة.

لإبراز التوزيع الأفقي للنباتات نتتبع الخطوات التالية:

- ✓ انجاز مظهر جانبي طبوغرافي للموقع المدروس انطلاقا من خريطة طبوغرافية.
- ✓ رسم مختلف أنواع النباتات المميزة للوسط على المظهر الجانبي الطبوغرافي، وذلك باستعمال رموز اصطلاحية.
- ✓ وضع مختلف الإشارات المتعلقة بالتوجيه، السلم، طبيعة التربة، الأودية، الطرق...

II – تقنيات دراسة الوسط المائي.

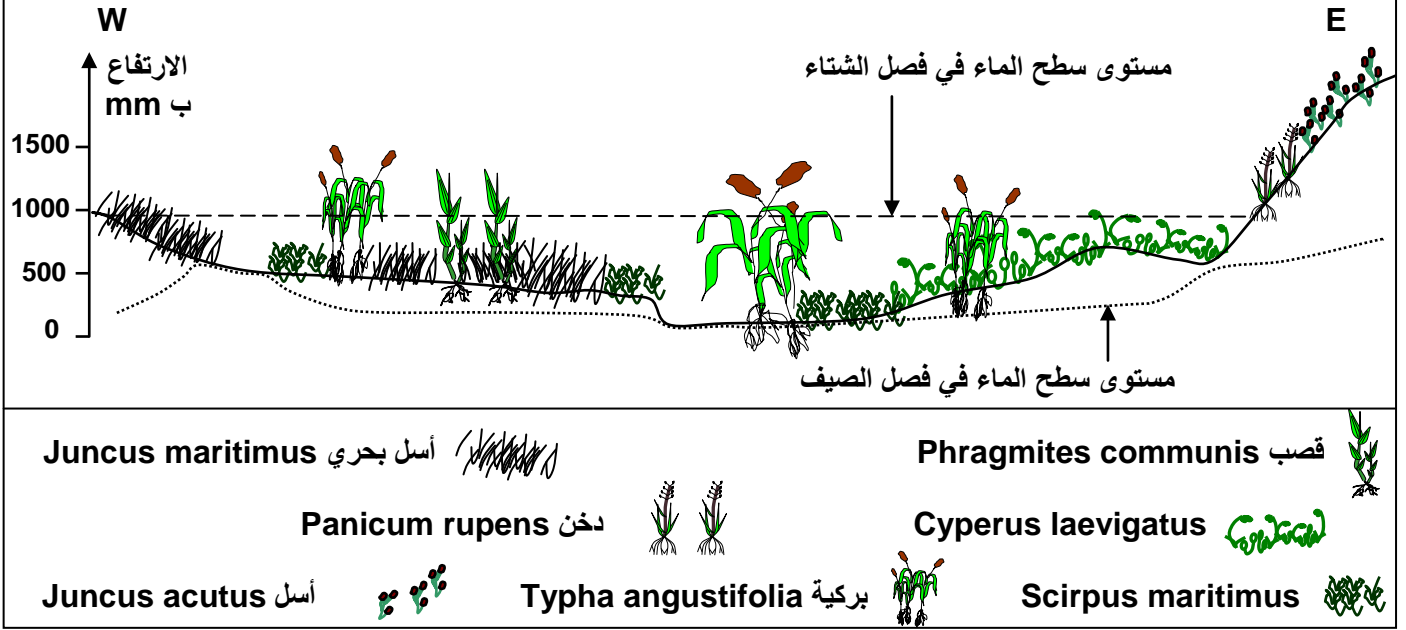
يعتبر الوسط المائي وسطا بيئيا متعدد الخصائص الفيزيائية والكيميائية. ولانجاز المقطع الأفقي داخل الوسط المائي نعتمد على المراحل التالية: أنظر الوثيقة 4.



- ✓ يتم جرد نباتات وحيوانات وسط مائي في منطقة تتميز بتنبث طبيعي داخل حزام عرضه 20 cm وطوله AB، يبتدئ من الجهة المغمورة وينتهي في اليابس.

- ✓ ننجز على طول الخط المحدد مقطعا طبوغرافيا.
- ✓ نسجل على هذا المقطع المنجز مختلف أنواع النباتات التي تمت ملاحظتها وذلك باستعمال رموز اصطلاحية.
- ✓ نتم المقطع بتحديد مستوى الماء في فصلي الصيف والشتاء.

الوثيقة 4: مقطع أفقي لتوزيع النباتات بضاية سيدي بوغابة.



يعتبر الوسط المائي وسطا بيئيا متعدد الخصائص الفيزيائية والكيميائية ومتنوع الكائنات الحية التي تتوزع حسب أحزمة بيولوجية تحددها عوامل الوسط وحاجيات النباتات والحيوانات.

ملاحظة: الوسط الشاطئي من الأوساط المائية التي تتميز بتنوع كائناته النباتية والحيوانية، والتي تتواجد تحت تأثيرات المياه الجارية (حركات المد والجزر). وتتوزع هذه الكائنات عموديا حسب الخصائص الفيزيائية والكيميائية للطبقات الشاطئية.

III - الدراسة الإحصائية لمتعضيات وسط بيئي.

① الدراسة الإحصائية للنباتات:

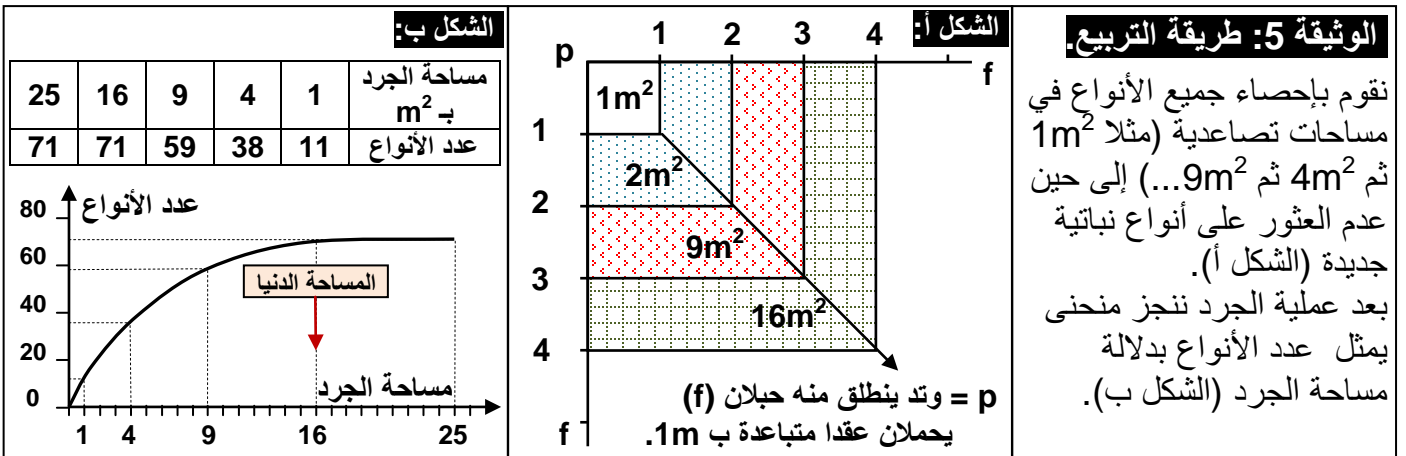
أ - تحديد موقع الجرد:

نسمي موقع الجرد بالمحطة Station، والتي يجب أن تكون متجانسة من حيث التنبت، أي توجد داخل الوسط المدروس وليس على حدوده.

ب - تحديد المساحة الضرورية للجرد: أنظر الوثيقة 5.

من الصعب القيام بدراسة إحصائية للوسط بأكمله، لذلك نلجأ إلى تحديد أصغر مساحة تتواجد فيها أغلب النباتات المميزة للموقع. تسمى هذه المساحة بالمساحة الدنيا.

نعتمد في هذا على طريقة التريبع Méthode de quadrillage.



المساحة الدنيا للجرد هي أصغر مساحة تتواجد بها كل أنواع النباتات الممثلة في الوسط. انطلاقاً من تحليل معطيات الوثيقة 5، نلاحظ أنه كلما ازدادت مساحة الجرد ازداد عدد الأنواع النباتية، إلى أن تصل هذه المساحة إلى $16m^2$ فيبقى عدد الأنواع ثابتاً رغم ارتفاع المساحة. نستنتج من هذا أن مساحة الجرد الدنيا هي $16m^2$.

ج - استثمار نتائج الجرد:

تسمح الدراسة الإحصائية لأنواع النباتات التي تنتمي لوسط بيئي من الحصول على معطيات كمية وكيفية، يمكن استغلالها في تكوين فكرة حول مميزات التنبت في الوسط المدروس.

a - معامل الوفرة - السيادة Abundance - Dominance

- ✓ الوفرة (أو درجة التواجد) هي عدد أفراد نفس النوع في كل وحدة مساحة
- ✓ السيادة (أو درجة التغطية) Recouvrement هي المساحة المغطاة من طرف مجموع أفراد نفس النوع، وتقدر بواسطة الإسقاط العمودي للجهاز الهوائي للنبات على سطح الأرض. ويعبر عنها بنسبة مئوية.
- ✓ يعتبر معياري الوفرة والسيادة غير مستقلين بعضهما عن بعض، لذا يتم تقديرهما بواسطة معامل الوفرة - السيادة أو ما يسمى سلم Braun Blanquet، أنظر الوثيقة 6.

الوثيقة 6: سلم Braun Blanquet لتقدير معامل الوفرة-السيادة.		
معامل الوفرة - السيادة	نسبة التغطية (%)	تقدير قيمة الوفرة
5	75 إلى 100 %	نوع سائد
4	50 إلى 75 %	
3	25 إلى 50 %	
2	10 إلى 25 %	نوع وافر
1	05 إلى 10 %	نوع متوسط الوفرة
0 أو +	أقل من 5 %	نوع ضعيف

b - التردد ومعامل التردد Fréquence et coefficient de fréquence

✓ تدل قيمة التردد (F) لنوع معين على مدى انتشار هذا النوع في الوسط المدروس. لهذا يتم حساب التردد انطلاقاً من مقارنة عدد كبير من الجرود أنجزت في محطات مختلفة. وذلك باستعمال الصيغة التالية:

$$F = \frac{\text{عدد الجرود المتوفرة على النوع (n)}}{\text{مجموع الجرود المنجزة (N)}} \times 100$$

الوثيقة 7: معاملات التردد حسب Durietz		
النوع النباتي	معامل التردد IF	الفئات (التردد F)
عرضي	I	$F < 20 \%$
تابع	II	$20 \% \leq F < 40 \%$
متوسط التواتر	III	$40 \% \leq F < 60 \%$
متواتر	IV	$60 \% \leq F < 80 \%$
جد متواتر	V	$80 \% \leq F \leq 100 \%$

✓ لقد قسم العالم Du Rietz الترددات إلى خمس فئات تدعى معاملات التردد أو الحضور كما يبين جدول الوثيقة 7.

✓ تعتبر النباتات ذات معامل التردد IV و V نباتات مميزة للوسط الذي تتواجد فيه (أنواع مؤشرة)، حيث تكون الظروف البيئية ملائمة لها.

✓ يمكن تمثيل تغير عدد الأنواع النباتية بدلالة معاملات التردد، بواسطة مدرج يعتمد عليه في إنجاز منحنى يسمى منحنى التردد.

- إذا كان هذا المنحنى وحيد المنوال فإن الجرود تنتمي لمجموعة نباتية متجانسة.
- إذا كان هذا المنحنى متعدد المنوال فإن الجرود تنتمي لمجموعة غير متجانسة.

c - تمرين تطبيقي: أنظر الوثيقة 8.

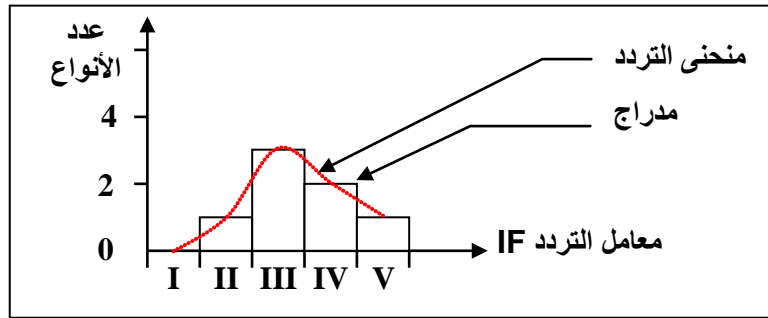
IF	F	R ₅	R ₄	R ₃	R ₂	R ₁	الجرود النباتات
		+	+	+	+	-	بلوط
		-	-	+	-	+	زان
		-	-	+	-	+	شرم
		-	-	+	-	+	قيقب
		+	+	-	+	-	كستناء
		+	-	-	+	+	لبلاب
		-	+	-	-	-	سندر

الوثيقة 8: تمرين.
يعطي الجدول أمامه نتائج دراسة ميدانية لتوزيع النباتات بمنطقة غابوية.
1) أتمم هذا الجدول.
2) أنجز مدرج ومنحنى تغير عدد الأنواع النباتية بدلالة معامل التردد.
3) ماذا يمكنك استنتاجه فيما يخص تجانس المجموعة النباتية.

1) تنممة الجدول:

النباتات	بلوط	زان	شرم	قيقب	كستناء	لبلاب	سندر
التردد F	80	40	40	40	60	60	20
معامل التردد IF	V	III	III	III	IV	IV	II

2) مدرج ومنحنى تغير عدد الأنواع النباتية بدلالة معامل التردد:



3) نلاحظ أن منحنى التردد وحيد المنوال، مما يدل على أن هذه الجرود أنجزت داخل مجموعة نباتية متجانسة.

② الدراسة الإحصائية للحيوانات:

أ - بعض تقنيات الجرد:

نظرا لتنقل الحيوانات داخل الوسط الذي تعيش فيه، فإن جردها يكون صعبا، لذلك يتم اللجوء إلى تقنيات خاصة منها الملاحظة المباشرة للتعرف على الحيوانات من خلال نشاطها ومن خلال آثارها، مثلا:

- ✓ ملاحظة الطيور بواسطة منظار، ويمكن التعرف عليها من خلال فحص أعشاشها والإنصات إلى تغريدها.
- ✓ البحث عن آثار الحيوانات وبقايا تغذيتها.
- ✓ القبض على الحيوانات بواسطة مصائد وفخاخ.

ب - استثمار النتائج:

بعد تجميع المعطيات الميدانية، يتم حساب الثوابت التالية:

- ✓ الوفرة A: هي عدد أفراد نفس النوع في كل وحدة مساحة.
- ✓ الكثافة D:

$$D = \frac{\text{مجموع أفراد النوع}}{\text{مجموع مساحة الجرود المنجزة (أو حجم الجرود)}}$$

✓ الكثافة النسبية La densité relative d (هي الوفرة النسبية):

$$d = \frac{\text{مجموع أفراد النوع في الموقع}}{\text{مجموع أفراد جميع الأنواع في الموقع}} \times 100$$

✓ التردد La fréquence F:

$$F = \frac{\text{عدد الجرود المتوفرة على النوع (n)}}{\text{مجموع الجرود المنجزة (N)}} \times 100$$

IV – تقنيات جمع الكائنات الحية والحفاظ عليها. Collecte et conservation

الوثيقة 9: جمع الكائنات الحية والمحافظة عليها

① **عند النباتات** يمكن اعتماد تقنية انجاز المعشبة لجمع وصيانة النباتات المميزة للمنطقة المدروسة، وذلك بتتبع الخطوات التالية:

★ خلال الخرجة:

① نلتقط النبتة (بأكملها أو جزء منها)، ويستحسن جمع كل عناصر النبتة (زهرة، بذور، أوراق، ...). فنكتفي بجمع عينة واحدة من كل نوع نباتي يتوفر في الموقع.

② نضع النبتة المعنية في كيس بلاستيكي أو من الأحسن بين صفائح جريدة لضمان صيانة أكثر.

③ نسجل كل المعلومات المتوفرة عن النبتة (تاريخ القطف، اسم النبتة، موقع القطف، مميزات النبتة: القد، شكل الأوراق، لون الزهرة، عدد أوراقها التوجيهية، شكل الجذر، ...) على قطعة ورق ووضع هذه الأخيرة على كيس بلاستيكي.

★ في المنزل أو في المختبر:

④ نجفف كل نبتة، وذلك بوضعها مستوية بين صفائح جرائد، نضع فوقها جسما ثقيلًا (مجموعة كتب)، نغير الجرائد كل ثلاثة أيام تقريبا لأنها تبتل. نعيد العملية حتى تجف النبتة تماما لأن بقاء الرطوبة في النبتة يعرضها للتعفن.

⑤ بعدما تجف النبتة، نلصقها على ورق مقوى.

⑥ نسجل صنافه النبتة: العائلة، النوع، الجنس، الاسم المتداول (يمكن الاعتماد على مفتاح التصنيف).

⑦ نسجل المعلومات الخاصة بالنبتة: تاريخ القطف، الطبقة العمودية التي تنتمي إليها (شجرية، عشبية ...)، مميزات الأزهار، موسم الإزهار، مميزات الثمرة، شكل الجذر، ...

② **عند الحيوانات** يمكن التقاطها باستعمال أدوات ومعدات مناسبة. ويمكن الحفاظ على هذه الحيوانات الملتقطة إما:

★ حية بوضعها في أواني تتناسب مع قدها (مما، قفص، ...) وضمان حاجياتها الضرورية للحياة (تغذية، تهوية، حرارة، رطوبة، ...).

★ ميتة وذلك بتحنيطها أو وضعها في الفورمول أو الكحول المخفف (70°).

بعد التقاط العينات توضع في مكان ملائم، ثم تنجز بطاقة تحمل الاسم العلمي للنوع والشائع وكذلك تاريخ ومكان الالتقاط.

① **النباتات:** (أنظر الوثيقة 9، ①)

تجمع عينات الأنواع المتوفرة في الوسط المدروس، وتحفظ بفضل انجاز معشبة Herbarium.

② **الحيوانات:** (أنظر الوثيقة 9، ②)

تستعمل مجموعة من الأدوات والمعدات للقبض على بعض العينات الحيوانية والتقاطها وجمعها.

V - لماذا توجد الكائنات الحية حيث هي؟ أنظر الوثيقة 10.

① النباتات: توزيع البلوط الأخضر كمثال

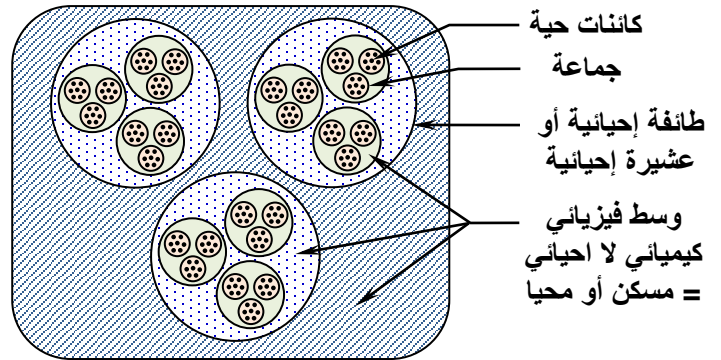
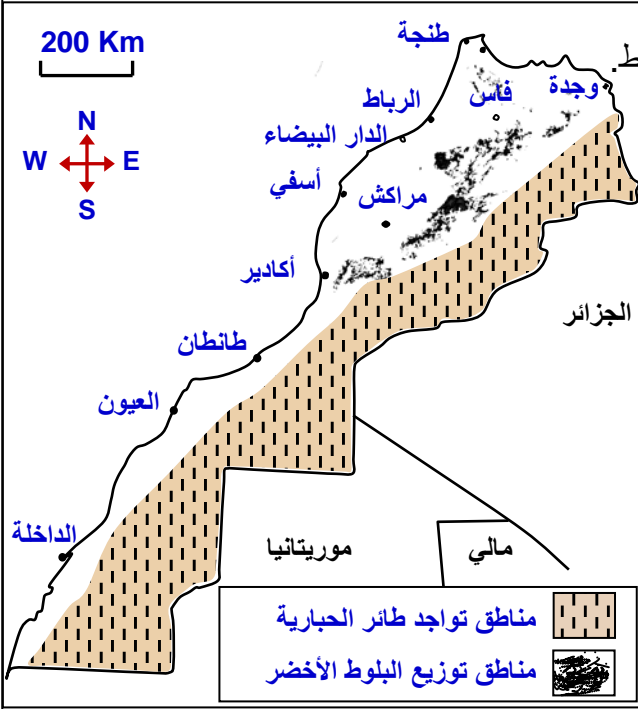
الوثيقة 10: مناطق توزيع بعض الكائنات الحية بالمغرب.

★ تعطي الخريطة أمامه مناطق تواجد كل من البلوط الأخضر و طائر الحبارية. كما نشير إلى أن:

- ✓ انتشار شجر أركان ينحصر بين أسفي وجنوب منطقة سوس.
- ✓ ينتشر الكوبرا في المناطق الصحراوية الحارة.
- ✓ ينتشر الزيتون في البلدان المطلة على البحر الأبيض المتوسط.
- ✓ الثعلب السغب ثديي لاحم، ينتشر في المناطق الصحراوية.

↔ انطلاقا من معطيات هذه الوثيقة، حدد خاصيات الوسط البيئي التي تميز مناطق تواجد كل من البلوط الأخضر و طائر الحبارية. ثم صغ فرضيات تفسيرية لتوزيع الكائنات الحية.

★ يعطي الرسم أسفله، تمثيلا مبسطا لحميلة بيئية:



↔ وظف معطيات هذه الوثيقة، لصياغة تعريف مبسط للمحيا، الجماعة، العشيرة الإحيائية والحميلة البيئية.

يتبين من معطيات الوثيقة أن البلوط الأخضر يتواجد في أغلب جبال المغرب، ابتداء من المنحدرات الأولى إلى ارتفاع 2000 م تقريبا.

يمكن تفسير هذا التوزيع بافتراض أن هذا النوع من النباتات يتحكم في توزيعه عامل المناخ، من حرارة منخفضة، رطوبة مرتفعة وتساقطات مهمة.

② الحيوانات: توزيع طائر الحبارية كمثال

ينتشر طائر الحبارية في المناطق الشرقية والجنوبية للبلاد، ولتفسير توزيعه يمكن أن نفترض أن المناخ هو العامل الذي يتحكم في هذا التوزيع.

③ استنتاج مفهوم الحميلة البيئية:

يتبين من هذه الأمثلة أن الأنواع النباتية والحيوانية تحتل أماكن محدودة داخل المحيط الإحيائي La biosphère حيث تسكن أوساطا Milieux تختلف بامتدادها وصفاتها الطبيعية، مما يجعلنا نفترض أن كل كائن حي يتطلب داخل مساحة توزيعه توفر ظروف خاصة.

وهكذا يمكن القول أن كل وسط طبيعي (غابة، ضاية، شاطئ، بحيرة، ...) يتميز بوجود مجموعة من المتعضيات تشكل

جماعة إحيائية، تنتظم في توازن فيما بينها ومع وسط عيشها ومع جماعات أخرى، لتشكل طائفة أو عشيرة إحيائية

Biocénose. كما يشكل وسط عيش هذه العشيرة الإحيائية بمختلف عناصره الكيميائية والفيزيائية (التربة، الهواء،

الضوء، الماء، الحرارة، الرطوبة، الأملاح المعدنية ...) ما يسمى المحيا Le biotope.

ويكون كل من العشيرة الإحيائية والمحيا حميلة بيئية Ecosystème.