

8 Exercices corrigés sur l'alternateur

Exercice 1:

Un alternateur hexapolaire tourne à 1000 tr/min. Calculer la fréquence des tensions produites. Même question pour une vitesse de rotation de 1200 tr/min.

Exercice 2:

Un alternateur triphasé a une tension entre phases de 400 V.
Il débite un courant de 10 A avec un facteur de puissance de 0,80 (inductif).
Déterminer les puissances active, réactive et apparente mises en jeu.

Exercice 3:

Un alternateur triphasé débite un courant de 20 A avec une tension entre phases de 220 V et un facteur de puissance de 0,85.
L'inducteur, alimenté par une source de tension continue de 200 V, présente une résistance de 100 Ω .
L'alternateur reçoit une puissance mécanique de 7,6 kW.

Calculer :

- 1- la puissance utile fournie à la charge
- 2- la puissance absorbée
- 3- le rendement

Exercice 4:

Un alternateur triphasé est couplé en étoile.
Sur une charge résistive, il débite un courant de 20 A sous une tension de 220 V entre deux bornes de l'induit.
La résistance de l'inducteur est de 50 Ω , celle d'un enroulement de l'induit de 1 Ω .
Le courant d'excitation est de 2 A.
Les pertes collectives sont évaluées à 400 W.

Calculer :

- 1- la puissance utile
- 2- la puissance absorbée par l'inducteur
- 3- les pertes Joule dans l'induit
- 4- le rendement

Exercice 5:

Un alternateur triphasé couplé en étoile alimente une charge résistive.

La résistance d'un enroulement statorique est $R_S = 0,4 \Omega$.

La réactance synchrone est $X_S = 20 \Omega$.

La charge, couplée en étoile, est constituée de trois résistances identiques $R = 50 \Omega$.

1- Faire le schéma équivalent du circuit (entre une phase et le neutre).

2- Sachant que la tension simple à vide de l'alternateur est $E = 240 \text{ V}$, calculer la valeur efficace des courants de ligne I et des tensions simples V en charge.

3- Calculer la puissance active consommée par la charge.

Exercice 6:

Un alternateur triphasé couplé en étoile fournit un courant de 200 A sous une tension entre phases $U = 400 \text{ V}$ à 50 Hz, avec un facteur de puissance de 0,866 (charge inductive).

1- Calculer la puissance utile de l'alternateur.

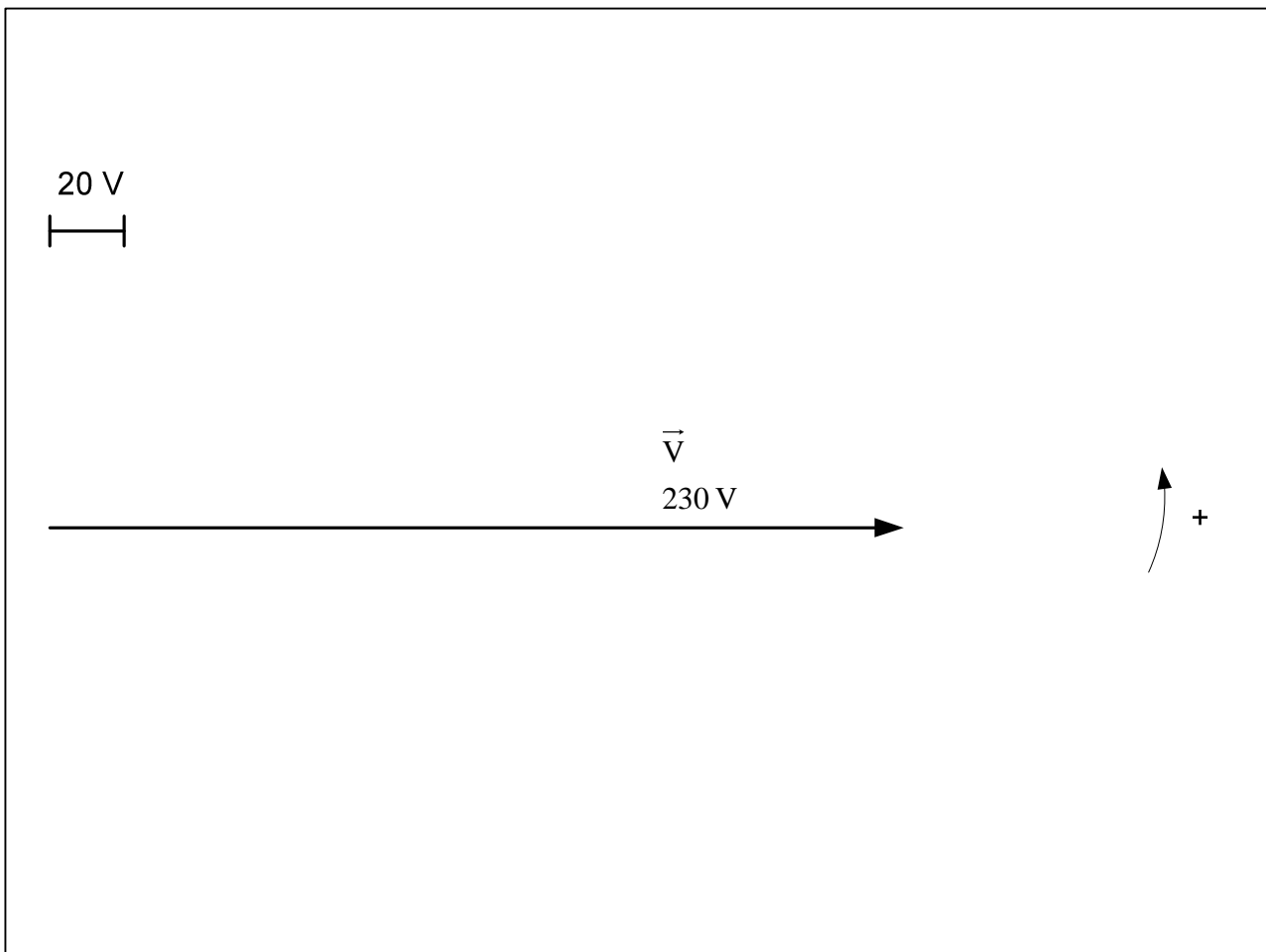
2- La résistance mesurée entre phase et neutre du stator est $30 \text{ m}\Omega$.
Calculer les pertes Joule au stator.

3- L'ensemble des pertes collectives et par effet Joule au rotor s'élève à 6 kW.
Calculer le rendement de l'alternateur.

4- La réactance synchrone de l'alternateur est $X_s = 750 \text{ m}\Omega$.

La tension entre phase et neutre est $V = U/\sqrt{3} = 230 \text{ V}$.

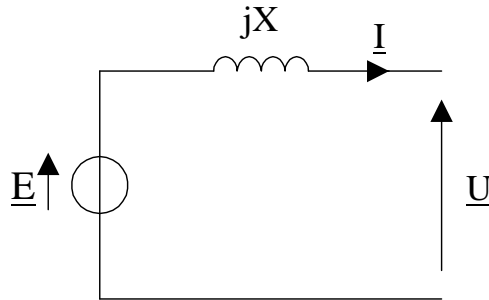
Compléter le diagramme de Behn-Eschenburg :



En déduire la tension à vide (fem) entre phase et neutre E .

Exercice 7 :

Soit un alternateur monophasé produisant une tension sinusoïdale U de fréquence $f = 50$ Hz. On donne ci-dessous la schéma équivalent simplifié de l'induit (la résistance de l'enroulement est négligeable). La réactance X de l'induit est égale à $1,6 \Omega$ pour une fréquence de 50 Hz :



La caractéristique à vide, pour une fréquence de rotation de 750 tr/min est donnée par :

$$E(\text{V}) = 120 i(\text{A}) \quad \text{avec } i \text{ le courant d'excitation.}$$

L'alternateur alimente une charge résistive traversée par un courant d'intensité efficace $I = 30$ A. La tension U aux bornes de la résistance a pour valeur efficace $U = 110$ V et pour fréquence $f = 50$ Hz.

1- Calculer le nombre de paires de pôles de l'alternateur sachant qu'il doit tourner à 750 tr/min pour fournir une tension sinusoïdale de 50 Hz.

2- Vérifier que la valeur efficace de la fem de l'alternateur E est égale à 120 V.

3- En déduire la valeur de l'intensité i du courant d'excitation.

4- Quelle est la résistance R de la charge ? En déduire la puissance utile fournie par l'alternateur à la charge résistive.

5- Dans les conditions de l'essai, les pertes de l'alternateur sont évaluées à 450 W. Calculer le rendement.

On modifie la vitesse de rotation : 500 tr/min.

On note f' , E' , X' , U' et I' les nouvelles valeurs de f , E , X , U et I .

Le courant d'excitation de l'alternateur est inchangé : $i' = i$.

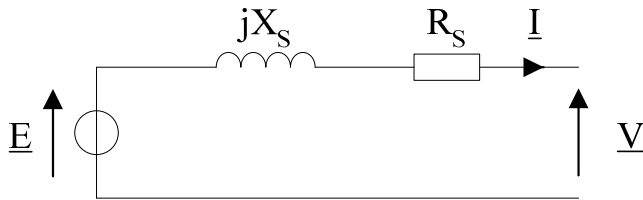
6- Calculer f' . En déduire X' .

7- Calculer E' . En déduire I' le courant dans la charge et U' la tension aux bornes de l'alternateur.

8- Quel doit être le courant d'excitation pour avoir $U' = 110$ V ?

Exercice 8 :

Le schéma équivalent de l'induit de l'alternateur est :



La résistance de l'enroulement de l'induit est : $R_s = 0,3 \Omega$.

La caractéristique à vide, pour une vitesse de rotation de 1500 tr/min est donnée par :

$$E = 200 \cdot i \quad \text{avec :} \quad \begin{array}{l} i \text{ le courant d'excitation (en A)} \\ E \text{ la valeur efficace de la fem (en V)} \end{array}$$

1- Calculer le nombre de paires de pôles de l'alternateur sachant qu'il doit tourner à 1800 tr/min pour fournir une tension sinusoïdale de fréquence $f = 60 \text{ Hz}$.

2- Un essai en court-circuit à 1500 tr/min, donne un courant d'induit $I_{CC} = 20 \text{ A}$ pour un courant d'excitation $i = 0,4 \text{ A}$.

Montrer que la réactance synchrone (en Ω) peut s'écrire :

$$X_s = \sqrt{\left(\frac{E}{I_{CC}}\right)^2 - (R_s)^2}$$

Faire l'application numérique.

3- L'alternateur alimente une charge résistive R qui consomme un courant d'intensité efficace $I = 20 \text{ A}$.

La tension $v(t)$ aux bornes de la résistance a pour valeur efficace $V = 220 \text{ V}$ et pour fréquence $f = 50 \text{ Hz}$.

3-1- Quelle est la vitesse de rotation de l'alternateur (en tr/min) ?

3-2- Calculer la résistance R de la charge.

3-3- Calculer la puissance utile fournie par l'alternateur à la charge.

3-4- Montrer que la fem de l'alternateur E est égale à 240 V .

3-5- En déduire l'intensité du courant d'excitation i .

3-6- Les pertes collectives de l'alternateur sont évaluées à 300 W .

La résistance de l'excitation est $r = 200 \Omega$.

En déduire le rendement de l'alternateur.

Corrigés

Exercice 1 :

Un alternateur hexapolaire tourne à 1000 tr/min. Calculer la fréquence des tensions produites.

$$f = pn = 3 \times (1000/60) = 50 \text{ hertz}$$

Même question pour une vitesse de rotation de 1200 tr/min.

$$f = pn = 3 \times (1200/60) = 60 \text{ hertz}$$

Exercice 2 :

Un alternateur triphasé a une tension entre phases de 400 V.
Il débite un courant de 10 A avec un facteur de puissance de 0,80 (inductif).
Déterminer les puissances active, réactive et apparente misent en jeu.

$$P = \sqrt{3} \times UI \times \cos \varphi = \sqrt{3} \times 400 \times 10 \times 0,80 = 5,54 \text{ kW}$$

$$Q = \sqrt{3} \times UI \times \sin \varphi = \sqrt{3} \times 400 \times 10 \times 0,6 = +4,16 \text{ kvar}$$

$$S = \sqrt{3} \times UI = \sqrt{3} \times 400 \times 10 = 6,93 \text{ kVA}$$

Exercice 3 :

Un alternateur triphasé débite un courant de 20 A avec une tension entre phases de 220 V et un facteur de puissance de 0,85.
L'inducteur, alimenté par une source de tension continue de 200 V, présente une résistance de 100 Ω .
L'alternateur reçoit une puissance mécanique de 7,6 kW.

Calculer :

1- la puissance utile fournie à la charge

$$P = \sqrt{3} \times UI \times \cos \varphi = \sqrt{3} \times 220 \times 20 \times 0,85 = 6,48 \text{ kW}$$

2- la puissance absorbée

$$7600 + 200^2/100 = 7600 + 400 = 8 \text{ kW}$$

3- le rendement

$$6,48 / 8 = 81 \%$$

Exercice 4 :

Un alternateur triphasé est couplé en étoile.

Sur une charge résistive, il débite un courant de 20 A sous une tension de 220 V entre deux bornes de l'induit.

La résistance de l'inducteur est de 50 Ω , celle d'un enroulement de l'induit de 1 Ω .

Le courant d'excitation est de 2 A.

Les pertes collectives sont évaluées à 400 W.

Calculer :

1- la puissance utile.

$$\sqrt{3} \times UI \times \cos \varphi = \sqrt{3} \times 220 \times 20 \times 1 = 7,62 \text{ kW}$$

2- la puissance absorbée par l'inducteur.

$$\text{C'est aussi les pertes Joule à l'inducteur : } 50 \times 2^2 = 200 \text{ W}$$

3- les pertes Joule dans l'induit.

$$3 \times 1 \times 20^2 = 1200 \text{ W (couplage étoile)}$$

4- le rendement.

$$\begin{aligned} \text{Puissance absorbée par l'alternateur} &= \text{puissance utile} + \text{pertes totales} \\ &= 7,62 + (0,2 + 1,2 + 0,4) = 9,42 \text{ kW} \end{aligned}$$

$$\text{Rendement} = 7,62 / 9,42 = 81 \%$$

Exercice 5 :

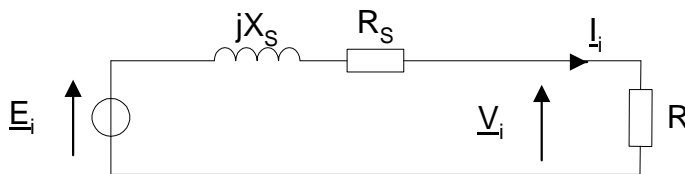
Un alternateur triphasé couplé en étoile alimente une charge résistive.

La résistance d'un enroulement statorique est $R_S = 0,4 \Omega$.

La réactance synchrone est $X_S = 20 \Omega$.

La charge, couplée en étoile, est constituée de trois résistances identiques $R = 50 \Omega$.

1- Faire le schéma équivalent du circuit (entre une phase et le neutre).



2- Sachant que la tension simple à vide de l'alternateur est $E = 240 \text{ V}$, calculer la valeur efficace des courants de ligne I et des tensions simples V en charge.

Impédance complexe totale : $\underline{Z} = (R_S + R) + jX_S = 50,4 + 20j$

Impédance totale : $Z = ((R_S + R)^2 + X_S^2)^{1/2} = 54,2 \Omega$

Courant de ligne : $I = E / Z$

$$I = \frac{E}{\sqrt{(R_S + R)^2 + X_S^2}} = \frac{240}{54,2} = 4,43 \text{ A}$$

Loi d'Ohm : $V = RI = 221 \text{ volts}$

3- Calculer la puissance active consommée par la charge.

$$\sqrt{3} \times UI \times \cos \varphi = 3 \times VI \times \cos \varphi = 3 \times 221 \times 4,43 \times 1 = 2,94 \text{ kW}$$

$$\text{Autre méthode : Loi de Joule} \quad 3RI^2 = 3 \times 50 \times 4,43^2 = 2,94 \text{ kW}$$

Exercice 6 :

Un alternateur triphasé couplé en étoile fournit un courant de 200 A sous une tension entre phases $U = 400 \text{ V}$ à 50 Hz, avec un facteur de puissance de 0,866 (charge inductive).

1- Calculer la puissance utile de l'alternateur.

$$P_u = \sqrt{3}UI \cos \varphi = \sqrt{3} \times 400 \times 200 \times 0,866 = 120 \text{ kW}$$

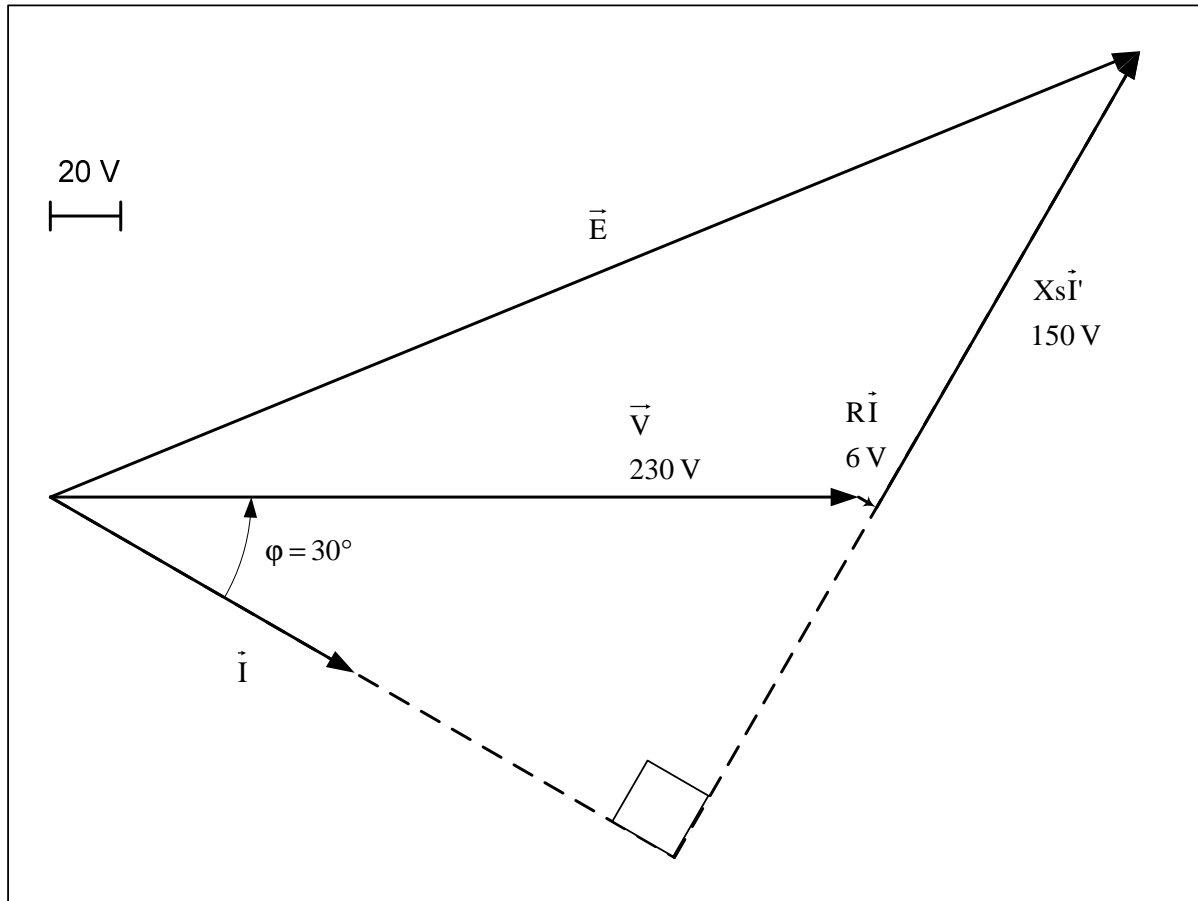
2- La résistance mesurée entre phase et neutre du stator est $30 \text{ m}\Omega$.
Calculer les pertes Joule au stator.

$$p_{JS} = 3R_s I^2 = 3 \times 0,03 \times 200^2 = 3,6 \text{ kW}$$

3- L'ensemble des pertes collectives et par effet Joule au rotor s'élève à 6 kW.
Calculer le rendement de l'alternateur.

$$\eta = \frac{120}{120 + 3,6 + 6} = 92,6\%$$

4- La réactance synchrone de l'alternateur est $X_s = 750 \text{ m}\Omega$.
 La tension entre phase et neutre est $V = U/\sqrt{3} = 230 \text{ V}$.
 Compléter le diagramme de Behn-Eschenburg :



En déduire la tension à vide (fem) entre phase et neutre E .

Graphiquement : $E = 335 \text{ V}$

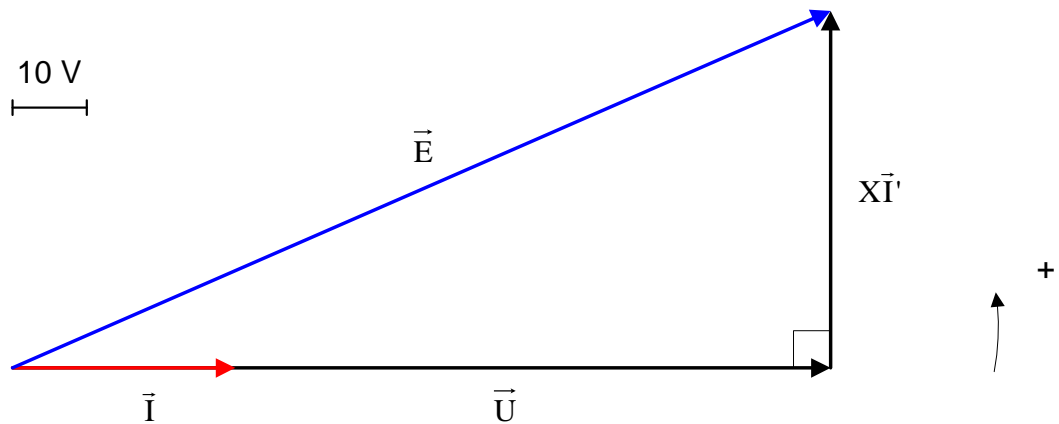
Exercice 7 :

1- Calculer le nombre de paires de pôles de l'alternateur sachant qu'il doit tourner à 750 tr/min pour fournir une tension sinusoïdale de 50 Hz.

$$p = 50 / (750 / 60) = 4$$

2- Vérifier que la valeur efficace de la fem de l'alternateur E est égale à 120 V.

Construisons le diagramme vectoriel de Behn-Eschenburg :



Théorème de Pythagore :

$$E = \sqrt{U^2 + (XI')^2} = 120V$$

3- En déduire la valeur de l'intensité i du courant d'excitation.

$$i = 120 / 120 = 1 \text{ A}$$

4- Quelle est la résistance R de la charge ? En déduire la puissance utile fournie par l'alternateur à la charge résistive.

$$R = U / I = 110 / 30 = 3,67 \Omega$$

$$P_u = RI^2 = 3300 \text{ W}$$

5- Dans les conditions de l'essai, les pertes de l'alternateur sont évaluées à 450 W. Calculer le rendement.

$$3300 / (3300 + 450) = 3300 / 3750 = 88 \%$$

On modifie la vitesse de rotation : 500 tr/min.

On note f', E', X', U' et I' les nouvelles valeurs de f, E, X, U et I.

Le courant d'excitation de l'alternateur est inchangé : i' = i.

6- Calculer f' . En déduire X' .

$$f' = p n_s' = 4 \times (500 / 60) = 33,3 \text{ Hz}$$

$$X = L\omega$$

$$X' = L\omega'$$

$$X' = X f' / f = 1,07 \Omega$$

7- Calculer E' . En déduire I' le courant dans la charge et U' la tension aux bornes de l'alternateur.

L'excitation est constante donc la fem est proportionnelle à la vitesse de rotation.

$$E' = E \times 500 / 750 = 80 \text{ V}$$

$$E' = \sqrt{U'^2 + (X'I')^2}$$
$$= \sqrt{(RI')^2 + (X'I')^2} = \sqrt{R^2 + X'^2} \cdot I'$$

$$I' = \frac{E'}{\sqrt{R^2 + X'^2}} = 20,95 \text{ A}$$

$$U' = RI' = 76,8 \text{ V}$$

8- Quel doit être le courant d'excitation pour avoir $U' = 110 \text{ V}$?

$$U' = R \frac{E'}{\sqrt{R^2 + X'^2}}$$

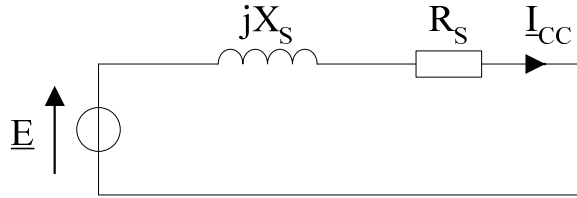
avec: $E' = 80 \cdot i$

$$i = \frac{U' \sqrt{R^2 + X'^2}}{80 \cdot R} = 1,43 \text{ A}$$

Exercice 8 :

1- $p = f / n = 60 / (1800/60) = 2$ paires de pôles.

2-



Impédance complexe de court-circuit : $\underline{Z} = R_s + jX_s$

$$E = Z I_{CC} = \sqrt{R_s^2 + X_s^2} I_{CC}$$

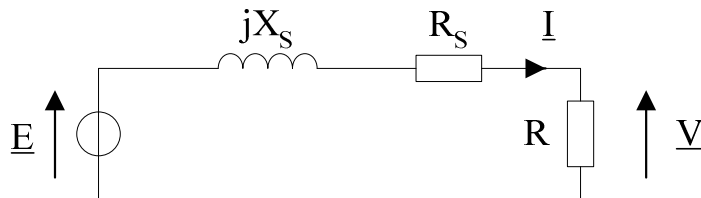
D'où :
$$X_s = \sqrt{\left(\frac{E}{I_{CC}}\right)^2 - (R_s)^2}$$

Application numérique :

$$E(V) = 200 \cdot i(A) = 200 \times 0,4 = 80 \text{ volts}$$

$$X_s = \sqrt{\left(\frac{80}{20}\right)^2 - (0,3)^2} = 4 \Omega$$

3-



3-1- $n = f / p = 50 / 2 = 25$ tr/s = 1500 tr/min

3-2- Loi d'Ohm : $R = V / I = 220 / 20 = 11 \Omega$

3-3- $P_{\text{utile}} = VI \cos \varphi = 220 \times 20 \times 1 = 4,4$ kW

Autre méthode : $R I^2 = 11 \times (20)^2 = 4,4$ kW

3-4- Impédance complexe : $\underline{Z} = (R + R_s) + jX_s$

$$E = Z I = \sqrt{(R + R_s)^2 + X_s^2} I$$

$$= \sqrt{(11 + 0,3)^2 + (4)^2} \cdot 20 \approx 240 \text{ volts}$$

3-5- $i = 240 / 200 = 1,2$ A

3-6- Pertes Joule de l'excitation :

$$r i^2 = 200 \times (1,2)^2 = 288 \text{ W}$$

Pertes Joule de l'induit :

$$R_s I^2 = 0,3 \times (20)^2 = 120 \text{ W}$$

Rendement : $4400 / (4400 + 288 + 120 + 300) = 4400 / 5108 = 86 \%$