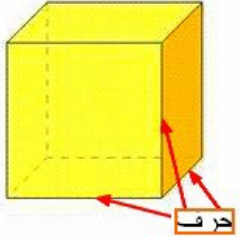
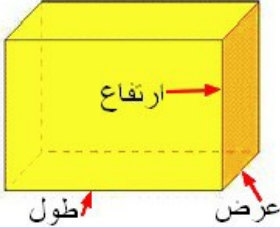
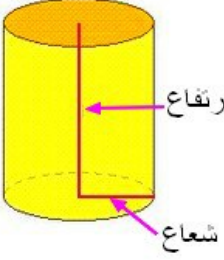


حجم المجسم هو حيز الفضاء الذي يشغله هذا المجسم ويرمز له ب V

الحجم = مساحة القاعدة × الإرتفاع

	<p>حجم المكعب = الحرف × الحرف × الحرف</p>
	<p>حجم متوازي المستطيلات = الطول × العرض × الإرتفاع</p>
	<p>حجم الأسطوانة = (الشعاع × الشعاع × π) × الإرتفاع ($\pi = 3,14$)</p>

تمرين

