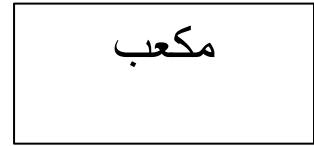
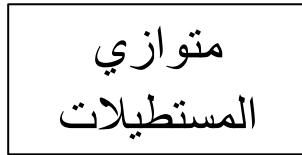
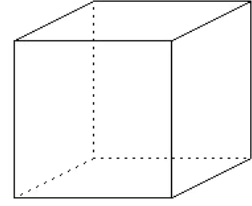
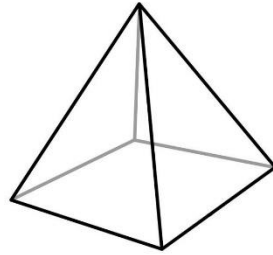
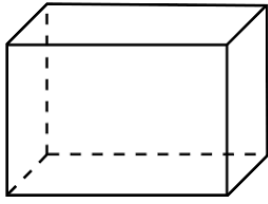



أنشطة هندسية:

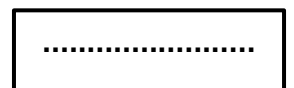
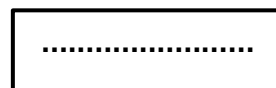
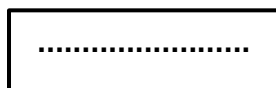
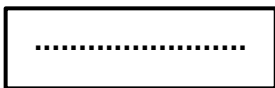

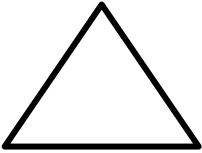
1. أصل بخط: (1,5ن)



2. ارسم المستقيم D1 الذي يمر من النقطة B ويكون موازيا للمستطيل C: (1,5ن)



3. أسمى كل شكل باسمه المناسب: (مربع - مستطيل - دائرة - مثلث) (2ن)



5. ارسم مستطيل طوله 4 سم وعرضه 2 سم (2ن)

4. ارسم مربع طول أحد أضلاعه 4 سم: (2ن)

أنشطة القياس:

1- أتمم بـ g أو cg (1ن)

1kg=1000

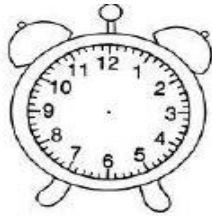
1g=100

2- أتمم بـ m أو mm : (1ن)


1km=1000 1m=1000

3- أكمل بالوحدة المناسبة: (1ن) سعة برميل من النفط هي: 200

4- اكتب الساعة الرقمية المناسبة لكل ساعة ذات عقارب و ارسم العقارب في المكان المناسب: (1ن)



12 : 40



06 : 20



:



:

5- أتمم كتابة شهور السنة الميلادية : (2,25ن)

..... 432	1 يناير
..... 8 7	6 يونيو	5
..... 12	11 نونبر10	9

6- أتمم كتابة الأيام: (1,5ن)

الاثنين - - الأربعاء - - الجمعة - - الأحد - ..

7- مسألة: (2,25ن)

تملك مريم الأوراق النقدية التالية :



اشترت دمية بثمن 160 درهما، احسب كم سيتبقى لديها من النقود .

العمليات	الحل

