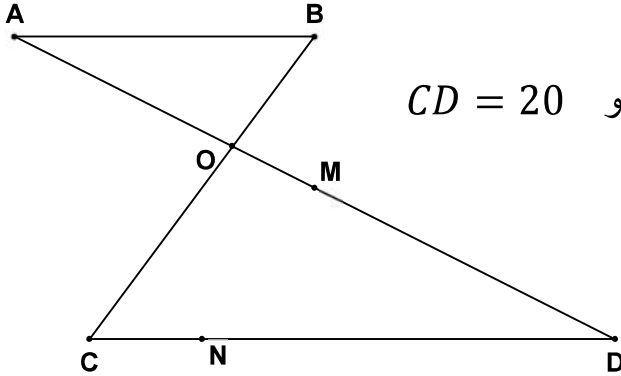


## التمرين الأول :



في الشكل جانبه :  $(AB) \parallel (CD)$  .

و  $AB = 6$  و  $OC = 10$  و  $OD = 16$  و  $CD = 20$

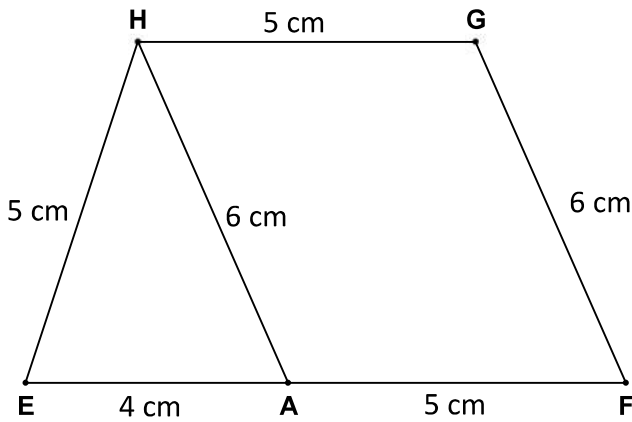
(1) أحسب المسافتين :  $OA$  و  $OB$  .

(2) نضع :  $DM = 12,8$  و  $DN = 16$

بين أن :  $(OC) \parallel (MN)$

## التمرين الثاني :

نعتبر الشكل جانبه :



EFGH شبه منحرف قاعدته  $[EF]$  و  $[GH]$  .

لتكن  $I$  نقطة من  $[EH]$  حيث :  $EI = 2\text{cm}$

و  $(\Delta)$  مستقيم مواز للقاعدتين يمر من

$I$  ويقطع  $[FG]$  في  $J$  و  $AH$  في  $R$  .

(1) أرسم الشكل .

(2) أحسب  $HR$  و  $IJ$

(3) لتكن  $L$  نقطة من نصف المستقيم  $[HE]$  و  $S$  نقطة من نصف المستقيم  $[HA]$

حيث :  $HL = 9,5\text{cm}$  و  $HS = 11,4\text{cm}$

بين أن :  $(AE) \parallel (LS)$

## التمرين الثالث :

(1)  $x$  و  $y$  عدنان حقيقيان بحيث :  $x - y = 9\sqrt{7}$  . قارن بين العددين  $x$  و  $y$  .

(2) قارن بين العددين  $2\sqrt{5}$  و  $5\sqrt{2}$

(3)  $a$  و  $b$  عدنان حقيقيان بحيث :  $3 \leq a \leq 7$  و  $-7 \leq b \leq -5$

أوجد تأطيراً لكل من الأعداد التالية :  $a + b$  و  $a - b$  و  $a^2$  و  $b^2$

(4)  $c$  عدد حقيقي بحيث :  $-5 \leq \frac{5c-10}{3} \leq 5$  . أوجد تأطير العدد  $c$

(5)  $a$  و  $b$  عدنان حقيقيان بحيث :  $a \leq b$  .

قارن العددين :  $a$  و  $\frac{a+b}{2}$

# تصحيح الفرض الثاني النموذج 3 للدورة الأولى

$$\frac{HI}{HE} = \frac{HR}{HA} = \frac{IR}{EA}$$

$$\frac{3}{5} = \frac{HR}{6} = \frac{IR}{4}$$

✓ **نحسب HR**

$$\frac{HR}{6} = \frac{3}{5}$$

$$HR = \frac{6 \times 3}{5} = 3,6 \text{ cm}$$

✓ **نحسب IJ**

$$\frac{IR}{4} = \frac{3}{5} \quad \text{لدينا}$$

$$IR = \frac{3 \times 4}{5} = \frac{12}{5} = 2,4$$

وبما أن  $IJ = IR + RJ$

$$IJ = 2,4 + 5 = 7,4 \text{ cm}$$

(3) لدينا في المثلث  $HLS$ :  $E \in (HL)$  و  $A \in (HS)$

$$\frac{HE}{HL} = \frac{5}{9,5} = 0,53$$

$$\frac{HA}{HS} = \frac{6}{11,4} = 0,53$$

$$\frac{HE}{HL} = \frac{HA}{HS} \quad \text{إذن}$$

وبما أن النقط  $H$  و  $E$  و  $L$  في نفس ترتيب النقط

$H$  و  $A$  و  $S$

إذن حسب مبرهنة طاليس العكسية فإن:  $(AE) // (LS)$

التمرين الثالث:

$$(1) \quad \text{لدينا} \quad x - y = 9\sqrt{7}$$

$$9\sqrt{7} > 0$$

$$x - y > 0$$

$$x > y$$

$$(2\sqrt{5})^2 = 4 \times 5 = 20 \quad (2)$$

$$(5\sqrt{2})^2 = 25 \times 2 = 50$$

وبما أن  $20 < 50$

$$(2\sqrt{5})^2 < (5\sqrt{2})^2 \quad \text{إذن}$$

$$2\sqrt{5} < 5\sqrt{2}$$

✓ **نأظر  $a + b$**  (3)

$$3 \leq a \leq 7$$

$$-7 \leq b \leq -5$$

التمرين الأول:

(1) لدينا في الشكل جانبه:

$O \in (AD)$  و  $O \in (BC)$  و  $(AB) // (CD)$

إذن حسب مبرهنة طاليس المباشرة فإن:

$$\frac{OA}{OD} = \frac{OB}{OC} = \frac{AB}{DC}$$

$$\frac{OA}{16} = \frac{OB}{10} = \frac{6}{20}$$

✓ **نحسب OA**

$$\frac{OA}{16} = \frac{6}{20}$$

$$OA = \frac{6 \times 16}{20} = 4,8$$

✓ **نحسب OB**

$$\frac{OB}{10} = \frac{6}{20}$$

$$OB = \frac{6 \times 10}{20} = 3$$

(2) لدينا في المثلث  $OCD$ :  $M \in (OD)$  و  $N \in (CD)$

$$\frac{DM}{DO} = \frac{12,8}{16} = 0,8$$

$$\frac{DN}{DC} = \frac{16}{20} = 0,8$$

$$\frac{DM}{DO} = \frac{DN}{DC} \quad \text{إذن}$$

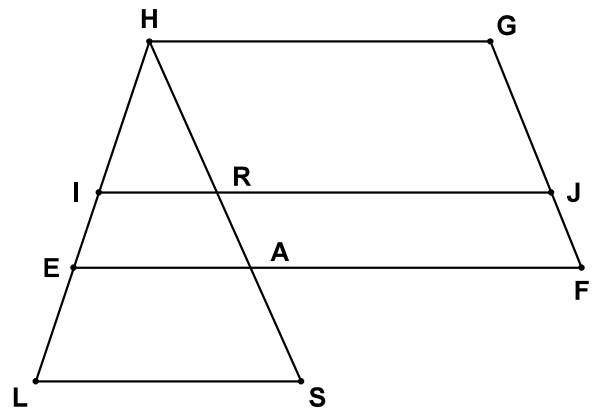
وبما أن النقط  $D$  و  $M$  و  $O$  في نفس ترتيب النقط

$D$  و  $N$  و  $C$

إذن حسب مبرهنة طاليس العكسية فإن:  $(OC) // (MN)$

التمرين الثاني:

(1)



(2) لدينا في المثلث  $HEA$ :

$I \in (HE)$  و  $R \in (HA)$  و  $(IR) // (EA)$

إذن حسب مبرهنة طاليس المباشرة فإن:

$$3 - 7 \leq a + b \leq 7 - 5$$

$$-4 \leq a + b \leq 2$$

✓ ناظر  $a - b$  :

$$-7 \leq b \leq -5$$

$$5 \leq -b \leq 7$$

$$3 \leq a \leq 7$$

$$3 + 5 \leq a - b \leq 7 + 7$$

$$8 \leq a - b \leq 14$$

✓ ناظر  $a^2$  :

$$3 \leq a \leq 7$$

$$9 \leq a^2 \leq 49$$

✓ ناظر  $b^2$  :

$$5 \leq -b \leq 7$$

$$5^2 \leq (-b)^2 \leq 7^2$$

$$25 \leq b^2 \leq 49$$

$$-5 \leq \frac{5c-10}{3} \leq 5 \quad \text{لدينا} \quad (4)$$

$$-5 \times 3 \leq 3 \times \frac{5c-10}{3} \leq 5 \times 3$$

$$-15 \leq 5c - 10 \leq 15$$

$$-15 + 10 \leq 5c - 10 + 10 \leq 15 + 10$$

$$-5 \leq 5c \leq 25$$

$$\frac{-5}{5} \leq \frac{5c}{5} \leq \frac{25}{5}$$

$$-1 \leq c \leq 5$$

$$a \leq b$$

(5) لدينا

$$a + a \leq a + b$$

$$2a \leq a + b$$

$$\frac{2a}{2} \leq \frac{a + b}{2}$$

$$a \leq \frac{a + b}{2}$$