


الإسم و النسب: .....	مادة العلوم الفيزيائية	نيابة قلعة السراغنة
القسم: 1/ فوج .....	فرض محروس رقم 1	ثانوية الدشرة الإعدادية
الرقم الترتيبي: .....		الدشرة

التمرين I: إملأ الفراغ بالكلمة المناسبة: 3.5 ن

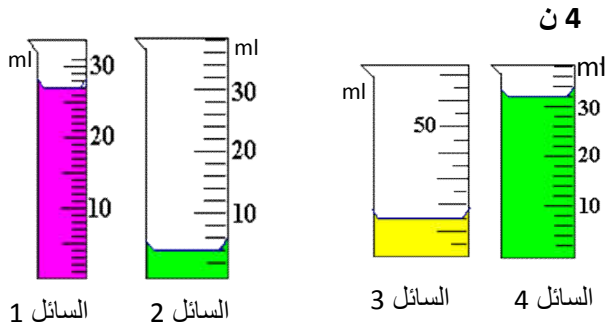


- لقياس كتلة جسم ما نستعمل ..... و .....
- لقياس حجم جسم ما نستعمل .....

التمرين II: أذكر مراحل دورة الماء 2.5 ن

- .....
- .....
- .....
- .....
- .....

التمرين III: حدد حجم السوائل التالية:

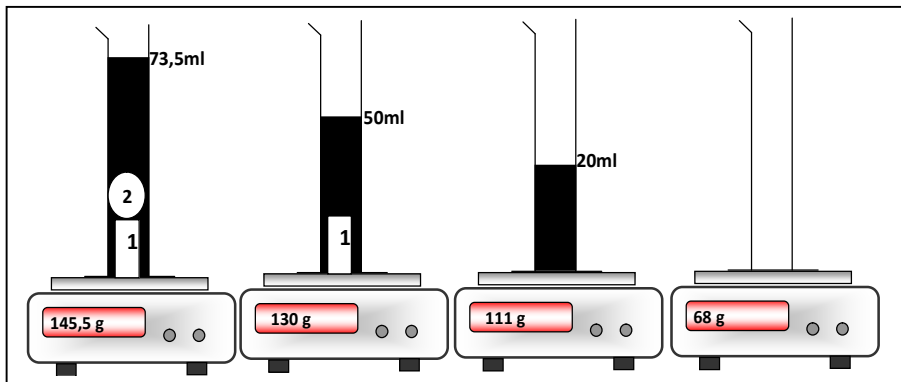


- 1 حجم السائل 1 هو: .....
- 2 حجم السائل 2 هو: .....
- 3 حجم السائل 3 هو: .....
- 4 حجم السائل 4 هو: .....

التمرين IV: أتمم الجدول التالي: 2 ن

$0,05m^3$	..... $cm^3$	$5 cm^3$	..... $dm^3$
.....L	10mL	.....L	0,5L

التمرين V: نجز القياسات الممثلة في التبيانات التالية: 8 ن



- 1 حدد كتلة السائل.
- .....
- 2 حدد حجم الجسم الصلب رقم 1.
- .....
- 3 حدد كتلة الجسم الصلب رقم 1.
- .....
- 4 حدد حجم الجسم الصلب رقم 2.
- .....
- 5 حدد كتلة الجسم الصلب رقم 2.
- .....
- .....