

• سأل هشام أباه : متى ولد أخي رشيد؟

" أجابه الأب : ولد أخوك يا بني في 24 دجنبر من سنة 1994 , وهي نفس السنة التي تم فيها إجراء أول انتخابات ديمقراطية في جنوب أفريقيا وانتخاب نيلسون مانديلا كأول رئيس ديمقراطي."

(1 نقصة)

1. من أين حصل هشام على المعلومات حول أخيه ؟

(1 نقصة)

2. ماذا تسمي ما حصل عليه هشام ؟

(2 نقص)

3. تقسم الشهادة أو الوثيقة إلى نوعين . اذكرهما؟

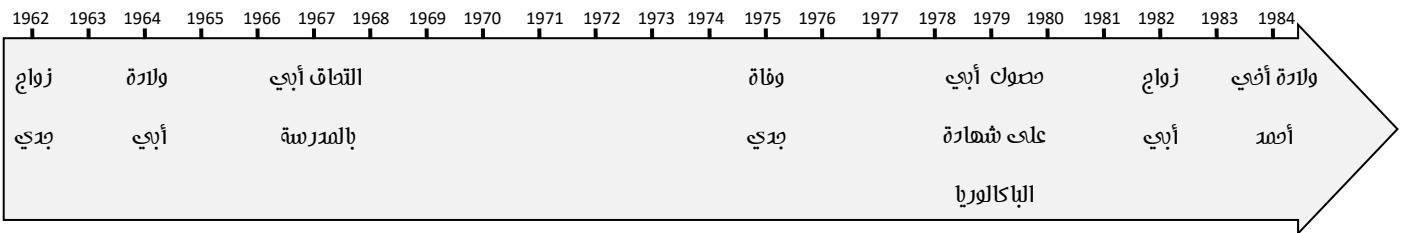
-
-

(3 نقص)

4. أعط تعريف للفظ الزمني ؟

(3 نقص)

5. لاحظ الخط الزمني التالي ثم أملأ الجدول :



سنة واحدة

السنة	الحدث
.....	ولادة أخي أحمد
1962
.....	حصول أبي على شهادة البكالوريا
1967
1964	ولادة أبي
1975
.....	زواج أبي

اسم المتعلم / المتعلمة :

النقطة المحصل عليها :

..... /10

(7 نكص)

مادة الاجتماعيات

مكونه الجغرافيا

الفرض الأول في الدورة الأولى

المستوى
الرابع

1. أنجز مايلي :

- ✓ أرسم تمثيلا لمكونات قسمك.
- ✓ لون مكونات القسم بألوان مختلفة.
- ✓ اشرح هذه الألوان في المفتاح.
- ✓ ضع عنوانا مناسباً لهذا الرسم .

(1 نكص)

العنوان :

المفتاح

(2 نكص)

(4 نكص)

(1,5 نكص)

2. أذكر بعض مرافق مدرستك :

(1,5 نكص)

3. أعط تعريفا للمفتاح :

اسم المتعلم / المتعلمة :

النقطة المحصل عليها :

..... /10

مادة الاجتماعيات

مكون التربية المدنية

الفرض الأول في الدورة الأولى

المستوى
الرابع

(1 نقصة)

1. ادر العبارة المناسبة بتلوينها :

كُلُّ تَلَامِيذٍ قَسَمِي لِهْمُ نَفْسِ الْإِسْمِ
لِكُلِّ تَلَامِيذٍ فِي قَسَمِي هُوِيَّةٌ خَاصَةٌ بِهِ
لِكُلِّ تَلَامِيذٍ قَسَمِي نَفْسِ الْهُوَايَةِ وَ نَفْسِ الْأَمْنِيَّةِ فِي الْمُسْتَقْبَلِ
كُلُّ تَلَامِيذٍ قَسَمِي أَطْفَالٌ

(2 نقصة)

2. أتمم الفقرة بما يناسب من الكلمات التالية :

الأندلسية - تنوع - الوحدة الوطنية - الأمازيغية

تتميز الهوية المغربية ب.....مكوناتها: العربية الإسلامية و.....والصحراوية الحسانية ، وغنى روافدها: المتوسطة، و.....و الإفريقية والعبرية ، واهذا التنوع دور مهم في تعزيز.....





(2 نقصة)

3. لبلدنا المغرب رموز تعرف به كسائر بلدان العالم . ماهي هذه الرموز ؟

-
-
-
-

(4 نقصة)

4. اكتب أسماء هذه المكونات :

رم	ز اله	ملكة اله	فريقية
			
.....

(1 نقصة)

5. ماهو شعار المملكة المغربية ؟

.....