


.....	اسم المتعلم	اسم الأستاذ
.....	المؤسسة	التاريخ

1 أكتب نفس الرقم فوق كل شكلين متشابهين (أستعمل الأرقام من 1 إلى 4) : (2ن)



2 أضع الرمز المناسب مكان النقط: (< ; > ; =) : (2.5 ن)

2 3


1 2

4 4

3 4

1 0

3 أكمل بما يناسب: (2 ن)



1

.....

5

.....

4 عدّد الكواشيبِ يُعادِلُ عدّدَ الفأراتِ أحيط الجواب الصحيح: (1 ن)



صحيح

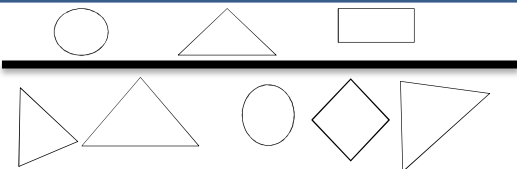
www.almanahije.com

خطأ



..... + 2 + =

5 أحسب و أرسّم الدوائر الناقصة (1.5 ن)



6 ألون المثلثات تحت الخط (1 ن)

www.almanahije.com

صفحتنا على الفيسبوك

<https://web.facebook.com/almanahije>

فرص المرحلة الأولى المستوى الأول الرياضيات

من اعداد مشرفي موقع المناهج التربوي

www.almanahije.com