


فرض مصور في الرياضيات
الفرض الأول في الدورة الأولى - المستوى الأول ابتدائي




٢٠٢٠ - وحدة

الاسم الكامل :


1. التمرين الأول : ألون المثلثات بالأحمر - المربعات بالأخضر - الأقراص بالأزرق 2ن




2. التمرين الثاني : ألون بطاقة الجواب الصحيح : 3ن



3. التمرين الثالث : أكتب العدد المناسب أسفل البطاقة : 4ن



4. التمرين الرابع : ألون الرقم الأكبر بين هذه الأرقام : 1ن



وفعكم الله