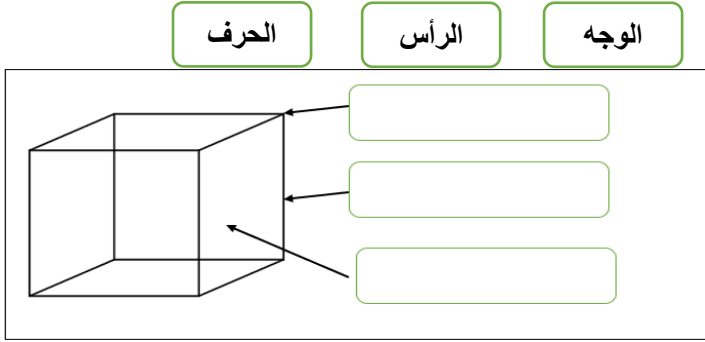


المستوى: الثاني السنة الدراسية: 2023-2022	فرض محروس رقم 2 في مادة الرياضيات المرحلة الرابعة	الاسم الكامل:
--	---	---------------------------------

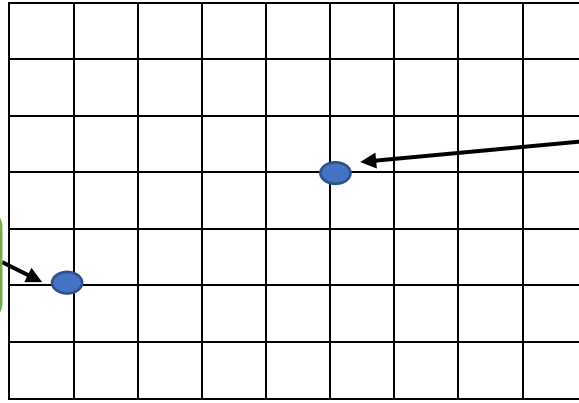
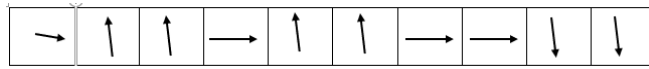
التمرين الثاني: أكمل بالمفردات المناسبة (2ن)



التمرين الأول: أضع وأنجز (2ن)

24×3	41×5

التمرين الثالث: أرسم المسار معتمدا على قن الانتقال التالي: (2ن)



نقطة الانطلاق

نقطة الوصول


التمرين الرابع: أرسم العقارب أو كتابة التوقيت (2ن)



11:30



:



04:20



:

التمرين الخامس:

قام يوسف بجمع معلومات عن حيوانات الموجودة بحديقة الحيوانات وهي كالتالي (2ن)
أنظم البيانات في الجدول جانبه .

المجموع	الصغار	الاناث	الذكور	
				الأسود:
				الكنغر:
				النمور:
				التماسيح:

الأسود: الذكور 2 - الاناث 5 - الصغار 5
الكنغر: الذكور 3 - الاناث 4 - الصغار 2
النمور: الذكور 2 - الاناث 4 - الصغار 4
التماسيح: الذكور 5 - الاناث 2 - الصغار 8