

6

فرض 2 الأسدس 2

الرياضيات

التمرين الأول

1. أنجز العمليات التالية

4pt

$7905:93$	$376,45 \times 34,65$	$8945,98 - 234,454$	$53656,72 + 4327,28$

1pt

2. مسألة

اشترت سعاد علبة أقلام بثمن 45,50 درهم . إذا علمت أن عدد الأقلام في العلبة هو 25 قلما . فما هو ثمن القلم الواحد؟

العمليات

ثمن القلم الواحد هو:.....

1.5pt

2. أنجز العمليات التالية بتفريط و يافراط إلى 0,001

 $5836:13=$

يافراط

.....

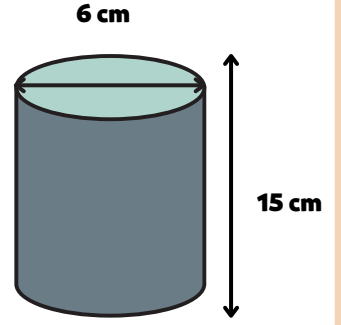

بتفريط

.....

التمرين الثاني

1pt

1. لاحظ الشكل جانبه ثم أحسب حجم الأسطوانة



حجم الأسطوانة هو


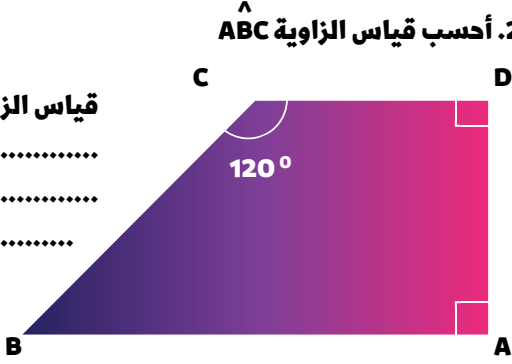
.....
.....
.....

1pt

2. أحسب قياس الزاوية \hat{ABC}

قياس الزاوية هو

.....
.....
.....

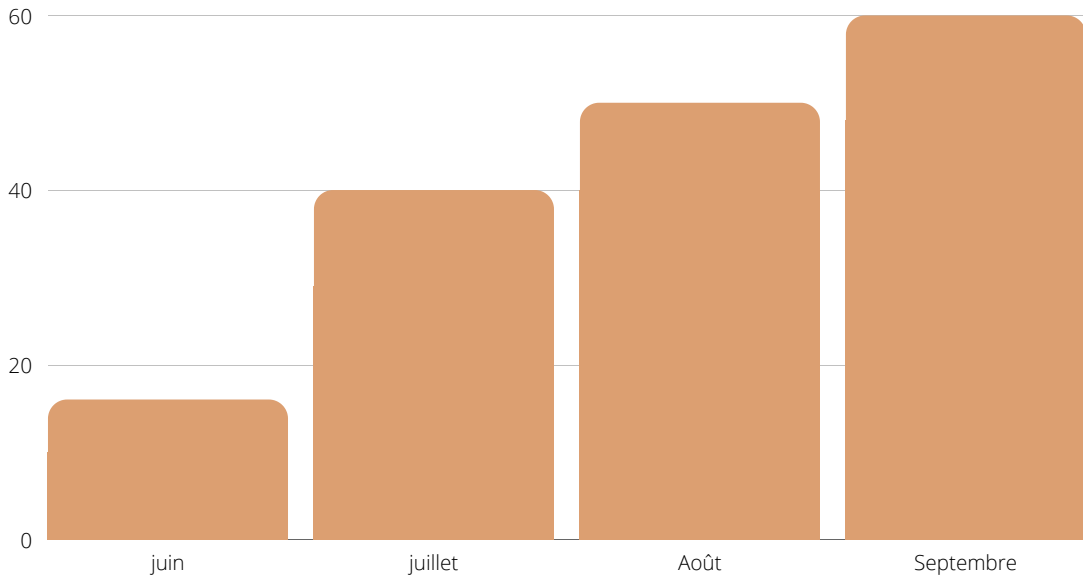


Exercice 3

1.5pt

1. Le graphique en barres représente le nombre de visiteurs du musée en 4 mois .

Nombre de visiteurs
(en milliers)



a. Quel est le mois qui a enregistré le plus grand nombre de visiteurs ?

.....

b. Quel est le mois qui a enregistré le plus petit nombre de visiteurs ?

.....

c. Quel le nombre de visiteurs au mois de juillet ?

.....