




<p>مادة: النشاط العلمي</p> <p>المراقبة المستمرة 1 الدورة 2</p> <p>المدة الزمنية: 50min</p> <p>إسم التلميذ:</p>		<p>المؤسسة:</p> <p>المستوى الدراسي: الأول ابتدائي</p> <p>الموسم الدراسي:</p> <p>الأستاذ:</p>
--	---	--

1. أكتب تحت كل صورة الكلمة المناسبة: (2ن) شيخ - رضيع - طفل - راشد



.....
-------	-------	-------	-------

2. ألاحظ ثم أصل بما يناسب: (2 ن)



3. أضع علامة (X) على ما يكسبني صحة جيدة: (1ن)



<input type="checkbox"/>	<input type="checkbox"/>	<input type="checkbox"/>	<input type="checkbox"/>
--------------------------	--------------------------	--------------------------	--------------------------



بالتوفيق

4. أرتب الوجبات اللازمة تناولها في اليوم الواحد بوضع الرقم (1- 2 - 3) : (1.5ن)

فطور	سُحور	عشاء	وجبة خفيفة	غداء
------	-------	------	------------	------

5. أكتب عبارة "صحيح" او "خطأ": (2ن)

<input type="checkbox"/>	الماء ضروري للحياة.
<input type="checkbox"/>	مصدر ماء البئر طبيعي.
<input type="checkbox"/>	التغذية المتوازنة غير ضرورية للحفاظ على صحتي
<input type="checkbox"/>	مياه الثلوج و الأمطار نقية

6. ضع علامة (X) تحت المصدر الطبيعي : (1.5ن)

		
<input type="checkbox"/> ثلوج	<input type="checkbox"/> أمطار	<input type="checkbox"/> أحواض
		
<input type="checkbox"/> بئر	<input type="checkbox"/> بركة	<input type="checkbox"/> بحر

