

	المراقبة المستمرة للمرحلة الأولى من الأسدوس الأول - نشاط علمي -	الاسم:..... المستوى: الثالث ابتدائي السنة الدراسية:
<u>النقطة و الملاحظة</u>		


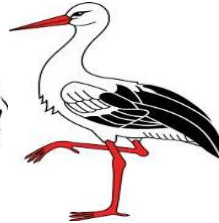

1) أضع علامة (x) في خانة الكائنات الحية و علامة (o) في خانة الجسم غير الحي(2ن)



2) أكمل بما يناسب التكاثر - الحية - التنفس - خصيات (2ن)

- تتميز الكائنات عن الأجسام غير الحية ب..... مشتركة منها:..... و التغذية و و النمو وكذا الموت.

3) أقرأ البطاقات و أصل بخط(2ن)




حيوان جسمه
مغطى بزغب
و أنثاه ترضع
الصغار

حيوان
جسمه
مغطى
بحراشف
ملتحمة

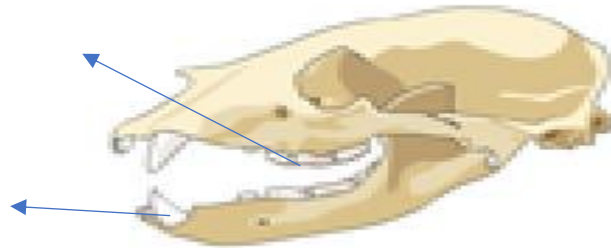
حيوان
جسمه مكسو
بحراشف
منفصلة وله
زعانف

حيوان
جسمه
مكسو
بريش وله
رجلان

4) أكتب ما يناسب تحت كل حيوان : فقري - لا فقري (2ن)



5) ألاحظ الصورة و أسمى أنواع الأسنان لهذا الحيوان (1ن)



أ

ب - أذكر دور كل نوع (1ن) :

..... الضرس -

..... القاطعة:-