

النقطة المحصل عليها :

..... /20

..... /10

(2 نقطه)

1. أَمَلِّ الفِراغات بما يَناسبُ:

الْجِنْسِيَّةِ - عَلامَاتِ - التَّمْيِيزُ - أَجسامِها

يُمْكِنُ يَبْنِ ذُكُورٌ وَإِنَاثٌ بَعْضُ الْحَيَوَانَاتِ بِمُلاحَظَةِ تَظَهَرُ عَلَيَّ وَتُسَمَّى بِالصِّفَاتِ




(4 نقطه)

2. أَمَلِّ البَطاقات بِكتابة: "بيوض" أو "ولود".



(1 نقطه)

3. أرتب مراحل دورة حياة الفراشة بوضع الأرقام من 1 إلى 4:



(1 نقطه)

4. تَكَاثَرُ النَباتات عبر مجموعة من الطرق من بينها (أَلون فَاة الجواب أو الأَجوبة الصعيقة):

الْجَنِّي

الْبُنُورُ

الْأَفْتِسَالُ

الْتَرَبُّةُ

(5, 1 نقطه)

5. أَمَلِّ الفِراغات بما يَناسبُ:

أَجْزائِها - تَتَكَاثَرُ - بُدُورِها

يُمْكِنُ لِلنَّبَاتاتِ أَنْ دُونَ زَرْعٍ وَتَتَكَاثَرُ النَّبَاتاتُ بِوِاسِطَةِ غَرَسِ بَعْضِ

6. ماهي مكونات سطح الأرض:

(0,5 نقطة)

(1 نقطة)

7. ما هما العنصرين اللذين تترود بهما الشمس الأرض:

(1 نقطة)

8. ماهي العناصر التي تغير القارات على سطح الأرض (ألون فانة الجواب أو الأجابة الصحيحة):

الرياح	الزلازل	المياه	الزئبق
--------	---------	--------	--------

9. ألاحظ الصورة أسفله وأتمم:

(2 نقطة)

• أتمم أسماء كواكب المجموعة الشمسية.



(0,5 نقطة)

• عدد كواكب المجموعة الشمسية هو:

(1 نقطة)

• أصغر وأكبر كواكب المجموعة الشمسية هو:

(1 نقطة)

• أبعد وأقرب كواكب المجموعة الشمسية هو:

(0,5 نقطة)

• الكوكب الذي نعيش فيه هو:

(3 نقطة)

10. أجب بـ "صحيح" أو "خطأ" أمام كل عبارة من العبارات التالية:

العبارة	الجواب
• تدور الأرض دورة كاملة حول الشمس خلال سنة واحدة.
• تدور الشمس دورة كاملة حول الأرض خلال سنة واحدة.
• تزود النشرة الجوية الإنسان بمعلومات عن حالة الطقس.
• النشرة الجوية لا تلعب دوراً مهماً في حياة الإنسان اليومية.
• نسبة اليابسة على سطح الأرض أكبر من نسبة الماء.
• الأرض مصدر الضوء لكواكب المجموعة الشمسية.