

اختبار رقم 1 في مادة الاجتماعيات

الدورة الأولى

إسمي:

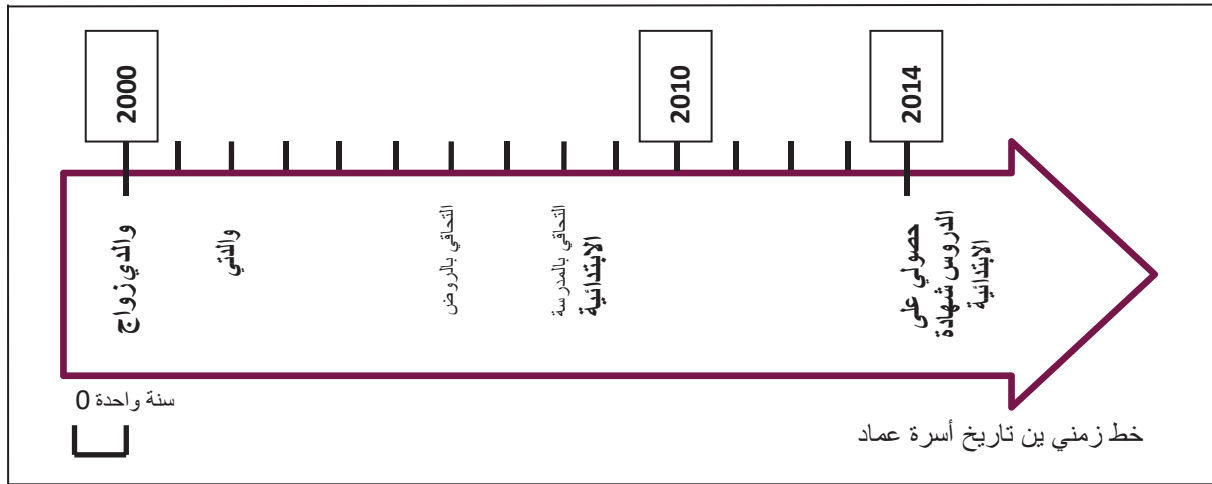
التاريخ

طلب عماد من جده معلومات عن ولادة أبيه فجابته قائلا : ولد أبوك في 14 مارس 1972 بعد سنة من انتقالنا للعيش في مدينة طنجة التحق بالمدرسة الابتدائية سنة 1978. بعد حصوله على شهادة البكالوريا، التحق بمركز تكوين المعلمين.

1 حدد نوعية الرواية التي قدمها الجد. (2 ن)

2 اذكر مثالين للوثيقة المكتوبة. (2 ن)

3 أتمم ملء الجدول اعتمادا على الخط الزمني اسفله (5 ن)



السنة	1000			1024
الحدث	والدي بعد زواج والدي بسنتان	التحاقى بالروضة	التحاقى بالمدرسة الابتدائية	

4 حدد عنوان الخط الزمني أعلاه (2 ن)


الجغرافيا

1 صل بخط. (4 ن)

- المفتاح
- المرافق
- التصميم
- المحترف
- مرفق يمارس فيه التلاميذ هواياتهم.
- منشآت تؤدي خدمات للسكن.
- رسم هندسي لفضاء كالمدرسة
- يوضح دلالات الرموز المستعملة في الرسم

2 أنجز رسما توضيحيا لمكونات قسمك (6 ن)

العنوان:	مفتاح الرسم



التربية المدنية

1 أتمم ملء البطاقة التالية : (3 ن)

اسمي :
تاريخ و مكان الازدياد :
جنسياتي :

2 اعتمادا على البطاقة أعلاه، أعط تعريفا للهوية (2 ن)

.....


.....

3 أتمم بما يناسب (3 ن)

❖ رموز بلادي هي :

.....

4 سم العناصر التالية (2 ن)



.....