
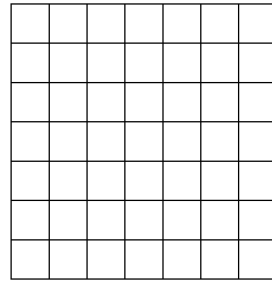


2 أحسب المجموع والجداء: (1.5ن)




$$\dots + \dots + \dots + \dots = \dots \times \dots = \dots$$

1 ألون الخانات وأكتب الجداء المناسب: (2ن)



$$7 \times 3 = \dots$$



$$3 \times 7 = \dots$$

4 أحدد قن المسار المرسوم على الشبكة: (2ن)



3 أكتب معلمة كل خانة: (1ن)

4			
3			
2			
1			
	أ	ب	ج

(,)	
(,)	
(,)	
(,)	

5 أكتب معلمة كل خانة: (1.5ن)



4:30



9:00



12:30

6 أكمل كتابة علامات العد واكتب العدد المناسب ثم أتم رسم المستطيلات: (2ن)



الحيوانات	علامات العد	العدد

$$\text{[blue box]} = 2$$