

المؤسسة :

10

الإسم :

1

❖ أحسب كل مجموع أو فرق أو جداء حسب كل عملية من العمليات أسفله :

/2

106 × 4 ...	231 × 3 ...	305 × 2 ...	126 × 5 ...	+ 872 + 51 ...	+ 430 + 123 ...	- 106 - 88 ...	289 - 63 ...
-------------------	-------------------	-------------------	-------------------	----------------------	-----------------------	----------------------	--------------------

2

❖ ذهب أحمد و كريم إلى السوق، فافتنى كل واحد المقتنيات أسفله. أملأ الجدول بما يناسب :

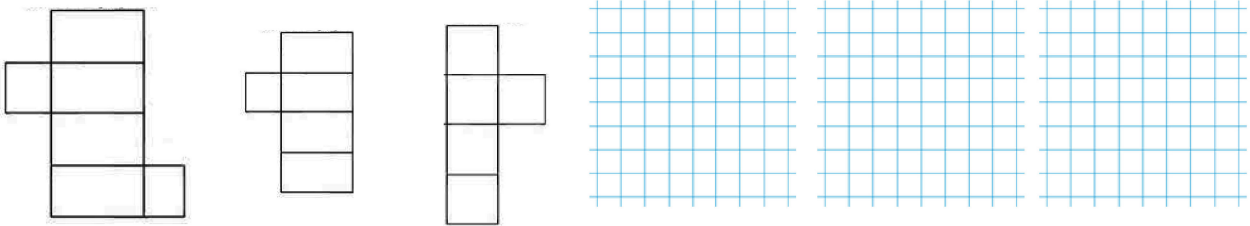
/3

المشتريات	دفع أحمد	أرجع له التاجر	المشتريات	دفع كريم	أرجع له التاجر
15 DHS 	 DHS	70 DHS 	 DHS
3 DHS 	 DHS	150 DHS 	 DHS
4 DHS 	 DHS	35 DHS 	 DHS

3

❖ أرسم مثلثاً قائم الزاوية، مربعاً، وقرصاً و ألون : ❖ ألون نشر متوازي المستطيلات الصحيح :


/2




4

❖ أكتب القيمة الصحيحة و وحدة القياس المناسبة في كل حالة من الحالات التالية ل أو kg :

/3




 :
