

اسم المؤسسة	اسم ونسب المتعلم

(1) اكتب الأعداد بالأرقام والحروف : (2ن)

الكتابة بالأرقام	الكتابة بالحروف
	مليونان وخمس مئة ألف وستون
36 024	

(2) رتب الأعداد التالية تناقصيا : 840 670 - 4 500 - 1 700 300 - 80 400 (1ن)

(3) فكك العدد التالي : (1ن)

850 472 =

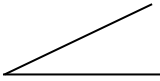


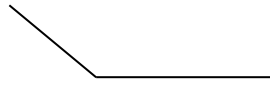
(4) قارن الأعداد التالية باستعمال الرمز المناسب : (1ن)

40 546 400 700 ; 5 980 6000
10 000 9 999 + 1 ; 50 000 000 7 000 690


5) Je convertis : (1p)

5t = q ; 0,7 km = dam
4,2 hg = kg ; 900 cm² = mm²

(6) اكتب اسم كل زاوية : (2ن)

(7) ارسم الزاوية AÔB التي قياسها 70° (1ن)



(8) وضع أحمدة الأوزان التالية في الشاحنة : 40kg - 52kg - 6000g - 8kg (8)

احسب الكتلة الإجمالية التي وضعها أحمد في الشاحنة بالكيلوغرام (kg) (1ن)

.....