



# مراقبة مستمرة رقم 01 في مادة النشاط العلمي الأسدوس الثاني

الأستاذ: .....


التاريخ: .....

الاسم الكامل: .....

## 1) أضع علامة (X) في الخانة المناسبة. (2ن)

خطأ	صحيح	
		يَتَغَيَّرُ مَكَانَ الظِّلِّ مَعَ تَغْيِيرِ مَكَانِ الْمَصْدَرِ الضَّوِّيِّ.
		الْمِرْآةُ لَا تَعْكِسُ الضَّوْءَ.
		تَنْتَقِلُ الْحَيَوَانَاتُ بِأَنْمَاطٍ مُخْتَلِفَةٍ.
		الْحَيَوَانَاتُ الَّتِي تَقْفِزُ لَهَا أَطْرَافٌ خَلْفِيَّةٌ أَطْوَلُ مِنْ الْأَطْرَافِ الْأَمَامِيَّةِ.

## 2) اكتب اسم المناسب أمام كل سهم. (1,5)



### (3) أَمَلَاءُ الْفِرَاعِ بِمَا يُنَاسِبُ: (1,5)





الْجِسْمُ ..... يَنْفُذُ عَبْرَهُ الضَّوُّ.

الْجِسْمُ ..... يَنْفُذُ عَبْرَهُ الْقَلِيلُ مِنَ الضَّوِّ.

الْجِسْمُ ..... لَا يَنْفُذُ عَبْرَهُ الضَّوُّ.

### (4) أَذْكَرُ أَوْسَاطُ تَنْقُلِ الْحَيَوَانَاتِ. (1,5)

### (5) أُتَمِّمُ الْجَدُولَ الْآتِي. (2ن)

				اسْمُ الْحَيَوَانِ
.....	.....	.....	.....	كَيْفِيَّةُ تَنْقَلِهِ
.....	.....	.....	.....	

### (6) أَمَلَاءُ الْفِرَاعِ بِمَا يُنَاسِبُ: رَاحِيَّةٌ - زَعَانِفٌ - مَجْدَافِيَّةٌ. (1,5)

لِلسَّمَكَةِ ..... تُسَاعِدُهَا عَلَى الْعَوْمِ.

لِحَيَوَانَاتٍ أُخْرَى أَطْرَافُ أَمَامِيَّةٌ ..... أَوْ أَرْجُلٌ ..... تُسَاعِدُهَا عَلَى الْعَوْمِ.



وفقكم الله